

ప్రీ-అప్పర్ ప్రైమరీ స్కూలర్స్ ఐగ్జామినేషన్ (5వ తరగతి), మే 2021

సీటు నం.

--	--	--	--	--	--	--	--	--	--

సెట్



0 7 0 2

పేపర్ నెం. II

మీడియం : తెలుగు

సమయం : 1:30 నుండి 3:00 వరకు

పేజీలు : 32

తృతీయ భాష మరియు ఇంటెలిజెన్స్ పరీక్ష

మొత్తం మార్కులు : 150

ప్రశ్న పత్రిక సాధించుటకు ముందు కింది సూచనలను జాగ్రత్తగా చదవండి.

- (1) ఈ ప్రశ్నపత్రికలో రెండు విభాగములు కలవు. వాటిలో విభాగం - I లో తృతీయ భాష విషయం కొరకు 1 నుండి 25 మరయు విభాగము - II లో ఇంటెలిజెన్స్ పరీక్ష కొరకు 26 నుండి 75 ఈ విధంగా ప్రశ్న పత్రికలో 75 ప్రశ్నలు కలవు అన్ని ప్రశ్నలు సాధించుట అనివార్యము.
- (2) ప్రతి ప్రశ్న కొరకు 2 మార్కులు కలవు.
- (3) ప్రశ్న పత్రిక సాధించుట కొరకు మొత్తం 90 నిమిషాల సమయం ఇవ్వబడును.
- (4) జవాబును గుర్తించుట కొరకు స్వతంత్ర ఉత్తర ప్రతిక ఇవ్వబడినది. ప్రతి ప్రశ్న క్రమసంఖ్య ముందు నాలుగు పర్యాయముల కొరకు క్రమసంఖ్యగల వృత్తములు ఇవ్వబడినవి అందులో సరియైన జవాబుయొక్క పర్యాయ క్రమ సంఖ్యగల వృత్తాన్ని కింది ఉదాహరణలో చూపించిన విధంగా రంగరించండి.
ఉదా : ప్రశ్న క్ర 6 యొక్క జవాబు క్రమసంఖ్య 2 అయితే, దానిని క్రింది విధంగా గుర్తించండి.
ప్రశ్న నం. 6 - ① ● ③ ④
- (5) క్రింది విధంగా గుర్తించిన జవాబులు పరిగణింపబడవు, ఇలా జవాబు వ్రాసినట్లయితే 'సున్న' మార్కులు ఇవ్వబడును.
ఉదా : ② ● ④
- (6) ఒకటికంటే ఎక్కువ వృత్తాలను గుర్తించిన జవాబులు కొట్టివేసి ఇచ్చిన జవాబులు పరిగణించబడవు.
- (7) ఒకసారి గుర్తించిన జవాబులు తిరిగి మార్పుటకు వీలుపడదు.
- (8) జవాబులు గుర్తించునపుడు నలుపు లేదా నీలి రంగు బాల్ పెన్నును మాత్రమే ఉపయోగించవలెను, పెన్సిల్ తో గుర్తించినవి పరిగణలోనికి తీసుకోబడవు.
- (9) ప్రశ్నపత్రంలో ప్రతి పేజీలో క్రింది భాగంలో మరియు చివరి పేజీలో చిత్తుపని చేసుకొనుటకు ఖాళీ స్థలం కలదు. అందులోనే చిత్తుపని చేయవలెను.
- (10) పరీక్షకు నిర్ణీత సమయము ఉన్నందున ఏదేని ప్రశ్నకు జవాబు తెలియకున్న అది వదలి దానిముందున్న ప్రశ్నలను సాధించండి. చివరకు సమయం ఉన్నచో విడిచిన ప్రశ్నలను సాధించుటకు ప్రయత్నించండి.
- (11) ఏదేని ప్రశ్నలో తప్పు కనిపించినట్లయితే దాని గురించి పర్యవేక్షకుడు లేదా ప్రరీక్ష కేంద్ర సంచాలకుని వద్దకు వెళ్ళ విచారించకూడదు.
- (12) ప్రశ్నలోని లోపం/తప్పు/అభ్యంతరాల గురించి ఫిర్యాదులకు సంబంధించిన లిఖిత పూర్వక వినతి పత్రం పాఠశాల లేక తల్లిదండ్రులు బ్లాక్ ఎడ్యుకేషన్ ఆఫీసర్ లేదా ఎడ్యుకేషన్ ఆఫీసర్ కు లిఖితపూర్వక దరఖాస్తు పంపకూడదు. ఈ లోపం/పాఠశాల/అభ్యంతర సమస్యలు సంబంధిత పాఠశాల లాగిన్ ద్వారా మాత్రమే ఆన్లైన్ లో నమోదు చేసు కొవాలి.
- (13) లోపం/తప్పు/అభ్యంతరాల గురించి లిఖిత పూర్వక వినతి పత్రం పంపవలసిన గడువు పరీక్ష పరిషద్ యొక్క సంకేత స్థలానికి (Website) తాత్కాలిక ఉత్తర (జవాబు) సూచిక విడుదల చేసిన 10 (పది) రోజుల వరకు ఉంటుంది.
- (14) ముద్రణ దోషాలు లేక ఇతర కారణాల వలన ప్రశ్న తప్పుగా ఉన్నట్లు తెలిస్తే నిపుణుల సమితి అభిప్రయం ప్రకారం తగిన చర్య తీసుకోబడును.
- (15) తెలుగు మీడియంతో పాటు ఇంగ్లీష్ భాషలో కూడా ప్రశ్న పత్రం ఇవ్వబడినది. తెలుగు మీడియంలోని సందిగ్ధ ప్రశ్నలకొరకు ఇంగ్లీష్ ప్రశ్నలు చూడండి.

Section - I

Instructions for Q. 01 to Q. 03

Read the passage carefully and choose the correct options:

A red traffic light is a warning that means STOP. It is not safe to cross the road until the green signal lights up. Start walking when green signal is on.

In short, a red light is a warning to pay attention.

01. If Red : Stop then Green : ?

- | | |
|----------|----------|
| (1) Pay | (2) Safe |
| (3) Walk | (4) Warn |

02. Find out the rhyming word from the passage for night.

- | | |
|------------|-----------|
| (1) eight | (2) right |
| (3) slight | (4) light |

03. Select the correct adjective from the given passage.

- | | |
|-------------------------|---------------------------|
| (A) Red | (B) Green |
| (1) 'A' and 'B' correct | (2) 'B' correct |
| (3) 'A' correct | (4) 'A' and 'B' incorrect |

04. Select the set which has different sound

- (1) Camera, Castle, Cabbage, Cat
- (2) Hat, Handle, Hammer, Hand
- (3) Kitten, Kettle, Knife, Kingdom
- (4) Mat, Map, Man, Mango

SPACE FOR ROUGH WORK

05. Look at the greeting card. Read the message and choose the correct option.

Dear Teacher,
We all love you and
respect you very much.
Thank you

- (1) Happy Independence Day (2) Happy Teacher's Day
(3) Happy Mother's Day (4) Happy Diwali

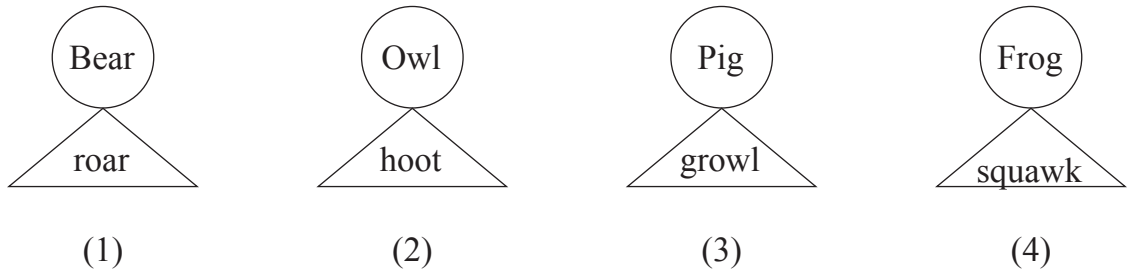
06. Choose the mismatch pair from the given options.

- (1) deer - deer (2) student - students
(3) mouse - mice (4) ox - oxes

07. Select the correct option for the given word Lift :

- (1) the wall (2) the farm
(3) the river (4) the box

08. Choose the correct pair from the given options.



09. Choose the correct ordinal number which comes after Eleven.

- (1) Tewlfth (2) Twvlfth
(3) Twelfth (4) Twefth

SPACE FOR ROUGH WORK

10. Look at the picture and select the correct conversation which matches with the picture:



- (1) A : Please give us two full glasses of sugarcane juice.
B : But Mamma, I want some ice in my juice.
- (2) A : Give me some tomatoes
B : Where's your bag ?
- (3) A : Do you like roasted two corn-cobs?
B : Oh, I love them
- (4) A : Have you tried these cakes?
B : This is a new cake shop

11. Choose the correct opposite words for 'a' and 'b'.

a	deep	×	?
b	ugly	×	?

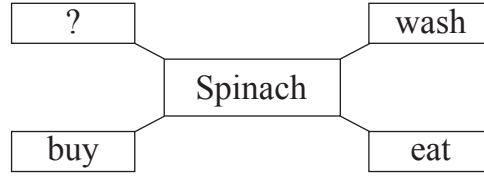
- (1) Top, Cute (2) Bottom, Sweet
(3) Shallow, Beautiful (4) Fountain, Cruel

12. Choose the correct option of the following statement which indicates the correct time 'Rita wakes up early in the morning'

- (1) 7 p.m. (2) 7 a.m.
(3) 3 p.m. (4) 12 noon

SPACE FOR ROUGH WORK

13. Complete the box by choosing the correct action word for the given word.



- (1) lump (2) scribble
(3) wobble (4) cook

14. The sign  indicates

- (1) stop (2) turn right
(3) go straight (4) turn left

15. Rearrange the numbers and make meaningful words.

v a f t i u r o e
1 2 3 4 5 6 7 8 9

- (1) 3 2 1 8 6 7 5 4 9 (2) 3 1 2 8 7 6 5 4 9
(3) 3 2 7 1 8 6 5 9 4 (4) 3 2 1 7 6 8 5 4 9

16. Solve the riddle

'I use a spanner and
a screw - driver.

Who am I?'

- (1) mechanic (2) potter
(3) milkman (4) farmer

17. Choose the correct option for the given word : Shape

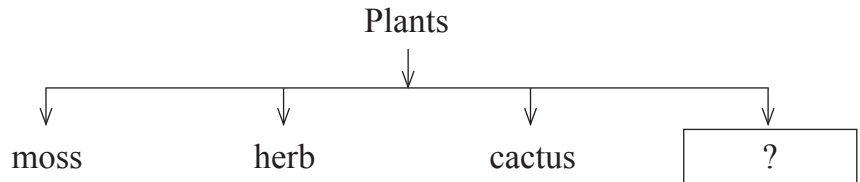
- (1) high (2) low
(3) fast (4) circle

SPACE FOR ROUGH WORK

18. Choose the correct 'Motto' from the given options
- (1) We'll all be quiet together (2) Give me a story book
(3) Protect all plants (4) Form groups of ten


19. Fill in the blank with the correct option.
He has bought electric iron.
- (1) the (2) an
(3) no article (4) a

20. Look at the diagram and choose the correct option.



- (1) stem (2) thorn
(3) vine (4) grain

21. Look at the picture and select the correct expression



- (1) scared (2) proud
(3) shy (4) sleepy

SPACE FOR ROUGH WORK

22. Look at the advertisement and choose the correct option



Sunny Biscuit Shop

Buy two cream Biscuit Packets!
Get one packet of chocolate Biscuit free!
Price Starting from 10 Rs. for one packet.

Khari Biscuits, Cream Biscuits
Chocolate Cream Biscuits
Almond Biscuits

You can buy packets of cream biscuits and get packet of chocolate biscuits.

- (1) 1, 1 (2) 1, 2
(3) 2, 1 (4) 2, 0

23. How many capital letters should be in the given sentence.

i am sopan bhosale

- (1) 2 (2) 3
(3) 4 (4) 1

24. Choose the correct option of punctuation mark for underlined sentence.

A : What's your name

B : Tell me your name, please

C : Chandrashekhar, You can call me Chandu

- (1) ? (2) .
(3) ; (4) !

25. Choose the sentence which has correct punctuation marks.

- (1) Oh no! what shall I do now? (2) Oh, no? what shall I do now?
(3) Oh, no! What shall I do now. (4) Oh, no! what shall I do now?

SPACE FOR ROUGH WORK

SECTION - II

INTELLIGENCE TEST

26. In the word 'EXTRAORDINARY', which is the letter at the 4th place to the right of the letter 'O'?

- | | |
|-------|-------|
| (1) X | (2) A |
| (3) T | (4) N |




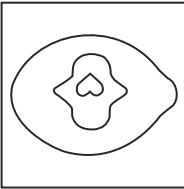
Q. 27 to 31 Direction : Find the odd term.

- | | |
|--------------|------------|
| 27. (1) Moon | (2) Mars |
| (3) Jupiter | (4) Saturn |

- | | |
|-----------|---------|
| 28. (1) 9 | (2) 65 |
| (3) 26 | (4) 126 |

- | | |
|-------------|---------|
| 29. (1) 386 | (2) 264 |
| (3) 275 | (4) 495 |

- | | |
|-------------------|----------------|
| 30. (1) Millenium | (2) Second |
| (3) Century | (4) Light year |

- 31.
- | | | | |
|---|---|--|---|
|  |  |  |  |
| (1) | (2) | (3) | (4) |

SPACE FOR ROUGH WORK

సెక్షన్ - II

ఇంటెలిజెన్స్ పరీక్ష

26. 'పతితపావన' ఈ పదంలో 'త' అక్షరానికి కుడివైపు రెండవ అక్షరము ఏది ?

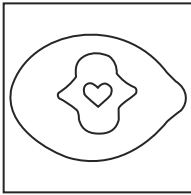
- | | |
|-------|--------|
| (1) ప | (2) తి |
| (3) న | (4) వ |

ప్ర. 27 నుండి 31 వరకు సూచన :

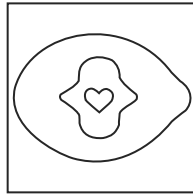
సమూహానాకి చెందని పదమును గుర్తించండి.

- | | |
|------------------|---------------|
| 27. (1) చంద్రుడు | (2) అంగారకుడు |
| (3) గురుడు | (4) శని |
| 28. (1) 9 | (2) 65 |
| (3) 26 | (4) 126 |
| 29. (1) 386 | (2) 264 |
| (3) 275 | (4) 495 |
| 30. (1) డేవిడ్ | (2) రాము |
| (3) సచిన్ | (4) రోజా |

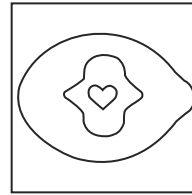
31.



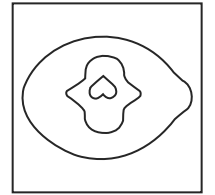
(1)



(2)



(3)



(4)

SPACE FOR ROUGH WORK

A	B	C	D	E	F	G	H	I	J	K	L	M	N	O	P	Q	R	S	T	U	V	W	X	Y
---	---	---	---	---	---	---	---	---	---	---	---	---	---	---	---	---	---	---	---	---	---	---	---	---

32. In the letter series “V, M, E, T, R, L, M, E, S, O, L, M, E, T, S, Q, V, M, E, O, L”, how many times M is preceded by E and is immediately followed by T?

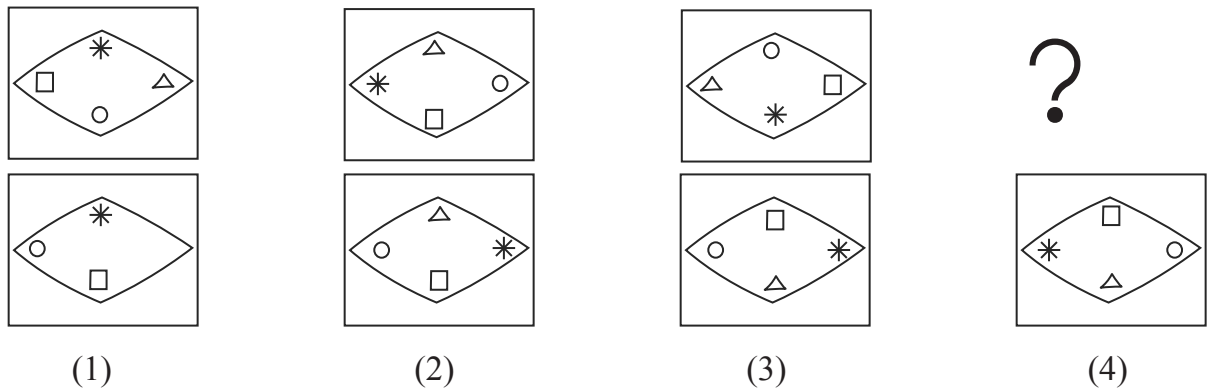
- (1) 4 (2) 8
(3) 5 (4) 6

33. Find the correct alternative to replace the question mark in the series given below.

4, 7, 13, 25, 49, ?

- (1) 59 (2) 95
(3) 97 (4) 69

34. In the given figures there is a particular sequence. Identify the sequence and find the figure which will replace the question mark.



35. **6, 8, 7, 3, 5, 9, 4, 2, 1**

In the number series by how much is the sum of prime numbers is more or less than the sum of composite numbers?

- (1) More by 10 (2) Less by 10
(3) Less by 9 (4) More by 9

SPACE FOR ROUGH WORK

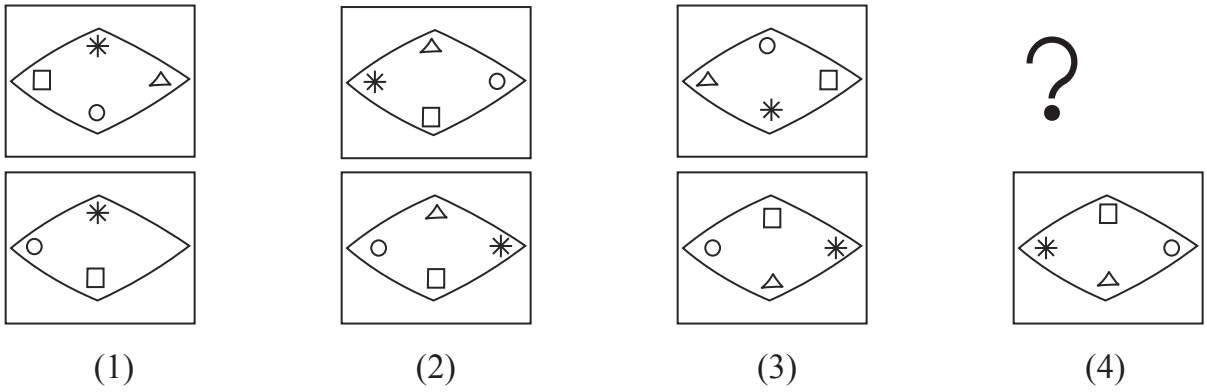
32. 'సూర్యుడు, నక్షత్రాలు, చక్రము, ముత్యము, పార్వతమ్మ, పుత్రరత్న' ఈ పదసమూహంలో మొత్తం ఎన్ని సంయుక్త అక్షరాలు గలవు ?

- (1) 4 (2) 8
(3) 5 (4) 6

33. కింది సంఖ్యామాలకలో ప్రశ్నచిహ్నమువద్ద వచ్చు పర్యాయమును గుర్తించుము.
4, 7, 13, 25, 49, ?

- (1) 59 (2) 95
(3) 97 (4) 69

34. కింది ఆకృతిలో విశిష్ట రకమైన క్రమముగలదు. ఆ క్రమమును గుర్తించి ప్రశ్నచిహ్నము స్థానంలో ఏ పర్యాయము వచ్చునో గుర్తించండి.



- (1) (2) (3) (4)

35. **6, 8, 7, 3, 5, 9, 4, 2, 1**

పై సంఖ్యామాలికలోని ప్రధాన సంఖ్యల మొత్తం ఇది ఘంయుక్త సంఖ్యల మొత్తంకన్న ఎన్ని ఎక్కువ లేదా తక్కువ గలవు ?


- (1) 10 ఎక్కువ (2) 10 తక్కువ
(3) 9 తక్కువ (4) 9 ఎక్కువ

SPACE FOR ROUGH WORK

Q. 36 and 37 : Direction :

Find out the mirror image of each of the following question figure from the alternatives given.

36. Question Figure



Answer Figure



(1)



(2)




(3)




(4)


37. Question Figure




Answer Figure




(1)



(2)



(3)



(4)

38. In the given alphabetical series, which group of letters will occur at the place of question mark?

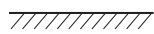
? MN ? NMM ? MNM ? N ? N

- (1) MMNMM (2) MNMNM (3) MMNMMN (4) MNMMM

Q. 39 and 40 : Direction :

In each question a problem figure is held vertical above water surface. Identify its water reflection and select the correct alternative.

39. Question Figure



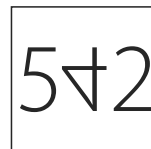
Answer Figure



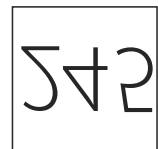
(1)



(2)



(3)



(4)

SPACE FOR ROUGH WORK

ప్ర. 36 మరియు 37 కొరకు సూచన :

కింది ప్రశ్నలోని ప్రశ్నకృతి ప్రతిమ అద్దంలో ఎలా కనబడునో పర్యాయ ఆకృతలనుండి గుర్తించండి.

36. ప్రశ్నకృతి



(1)



(2)



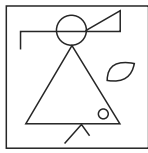

(3)




(4)

జవాబు ఆకృతి

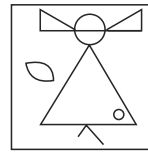
37. ప్రశ్నకృతి




(1)



(2)



(3)



(4)

జవాబు ఆకృతి

38. కింద ఇవ్వబడిన చిహ్నాల మాలికలో ప్రశ్నచిహ్నముల స్థానంలో ఏ చిహ్నముల సమూహం వచ్చును ?

? MN ? NMM ? MNM ? N ? N

(1) MMNMM

(2) MNMNM

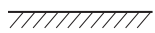
(3) MMNMM

(4) MNMMM

ప్రశ్న 39 మరియు 40 కొరకు సూచన :

కింది ఇవ్వబడిన ప్రశ్నకృతి యొక్క ప్రతిబింబం నీటిలో ఎలా కనబడును గుర్తించండి.

39. ప్రశ్నకృతి



(1)



(2)



(3)

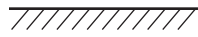
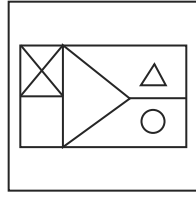


(4)

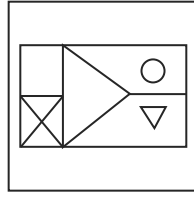
జవాబు ఆకృతి

SPACE FOR ROUGH WORK

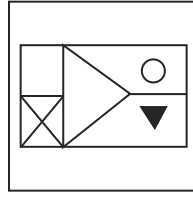
40. Question Figure



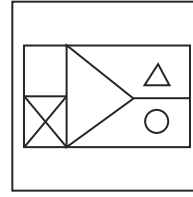
Answer Figure



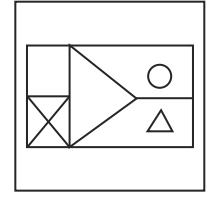
(1)



(2)



(3)



(4)

41. Find the correct alternative to replace the question mark in the given number series.

13, 15, 19, 27, ?

(1) 35

(2) 27

(3) 32

(4) 30

42.

ABCDE FGHIJ KLMNO PQRST UVWXY

In the given alphabetical series, write the left adjacent letter, of the letter which is at seventh place from the right end?

(1) E

(2) T

(3) R

(4) Y

Q. 43 to 47 : Direction :

In the following questions, first pair has same relationship between first two terms. The same relation holds true for the second pair. Identify the relation and select the correct alternative.

43. Bhakri : Jowar :: Butter : ?

(1) Sugarcane

(2) Raw Mango

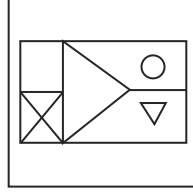
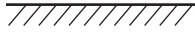
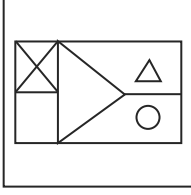
(3) Milk

(4) Bajra

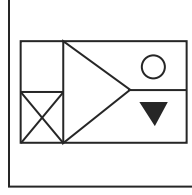
SPACE FOR ROUGH WORK

40. ప్రశ్నాకృతి

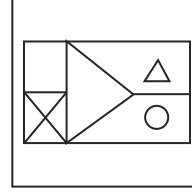
జవాబు ఆకృతి



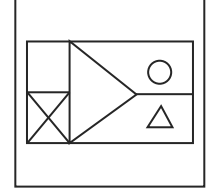
(1)



(2)



(3)



(4)

41. కింది సంఖ్యామాలికలో ప్రశ్నచిహ్నము స్థానంలో ఏ పర్యాయము వచ్చును గుర్తించండి.

13, 15, 19, 27, ?

(1) 35

(2) 27

(3) 32

(4) 30

42.

ABCDE FGHIJ KLMNO PQRST UVWXY

పై అక్షరమాలికలో కుడివైపు ఏడవ అక్షరానికి ఎడమవైపు ప్రక్కనగల అక్షరము ఏది ?

(1) E

(2) T

(3) R

(4) Y

ప్రశ్న 43 నుండి 47 కొరకు సూచన: కింది ప్రశ్నలో

మొదటి రెండు పదముల సంబంధమును గుర్తించండి అదే సంబంధము మూడు మరియు నాలుకు పదాలకు గలదు అయినే ప్రశ్నచిహ్నము స్థానంలో వచ్చు పర్యాయమును గుర్తించండి.

43. రొట్టె : జొన్నలు : వెన్న ?

(1) చెరుకు

(2) మామిడికాయ

(3) పాలు

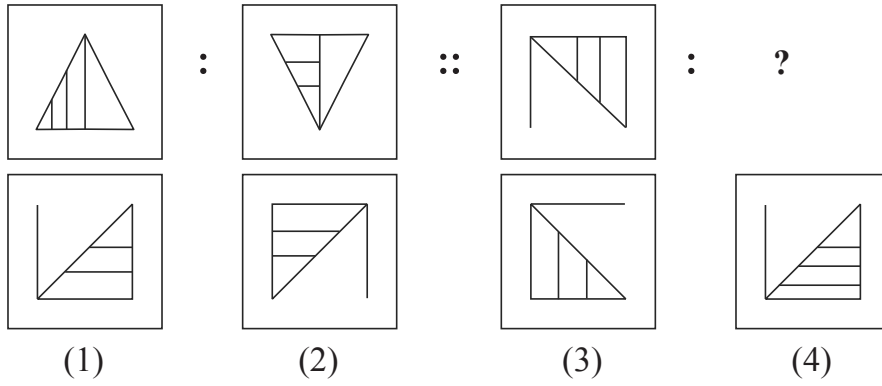
(4) అరటిపండు

SPACE FOR ROUGH WORK

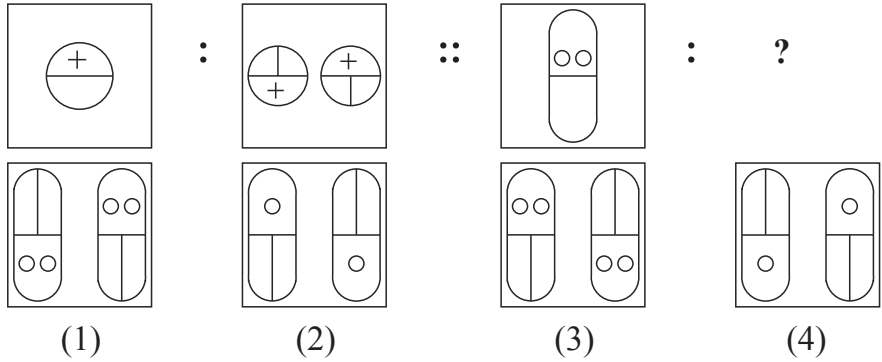


A	B	C	D	E	F	G	H	I	J	K	L	M	N	O	P	Q	R	S	T	U	V	W	X	Y
---	---	---	---	---	---	---	---	---	---	---	---	---	---	---	---	---	---	---	---	---	---	---	---	---

44.



45.



46.

4 : 18 :: 6 :: ?
 (1) 19 (2) 22 (3) 18 (4) 27

47.

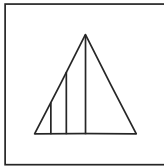
26 : 38 :: 48 : ?
 (1) 52 (2) 80 (3) 48 (4) 64

48.

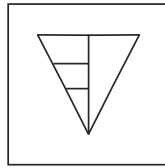
Find the odd term in the given series.
 3, 4, 6, 10, 22, 34
 (1) 6 (2) 10 (3) 22 (4) 34

SPACE FOR ROUGH WORK

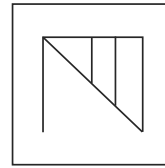
44.



:

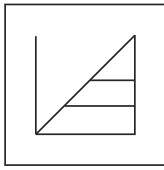


::

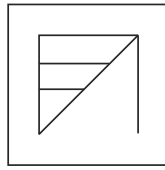


:

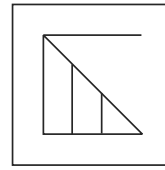
?



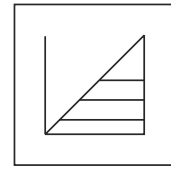
(1)



(2)

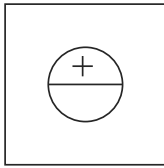


(3)

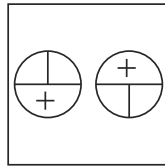


(4)

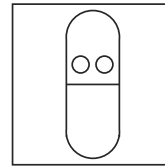
45.



:

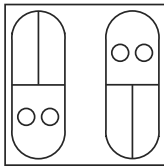


::

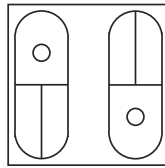


:

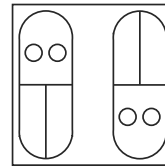
?



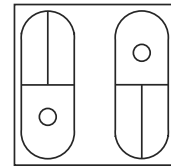
(1)



(2)



(3)



(4)

46. 4 : 18 :: 6 : ?

(1) 19

(2) 22

(3) 18

(4) 27

47. 26 : 38 :: 48 : ?

(1) 52

(2) 80

(3) 48

(4) 64

48. కింది సంఖ్యామాలికలో తప్ప, వదం ఏది ?

3, 4, 6, 10, 22, 34

(1) 6

(2) 10

(3) 22

(4) 34

SPACE FOR ROUGH WORK

A	B	C	D	E	F	G	H	I	J	K	L	M	N	O	P	Q	R	S	T	U	V	W	X	Y
---	---	---	---	---	---	---	---	---	---	---	---	---	---	---	---	---	---	---	---	---	---	---	---	---

49. Swati is eight years older than Kranti. The sum of the present ages of both the girls is 44. Find the age of Swati eight years before?


- (1) 52 (2) 36 (3) 34 (4) 18

50. If Rat is called Cat, Cat is called Donkey, Donkey is called Dog, Dog is called Deer, Deer is called Human, Human is called Rabbit, Rabbit is called Calf then who is the most intelligent animal among them?


- (1) Human (2) Calf (3) Rabbit (4) Dog

Q. 51 and 52 : Direction : Find out the figure which exactly matches with the question figure from the four alternative figures given below.


51. **Question Figure**




Answer Figure




(1)



(2)

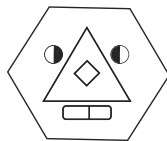


(3)

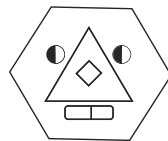


(4)

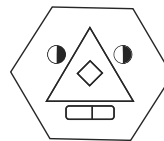
52. **Question Figure**



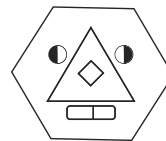
Answer Figure



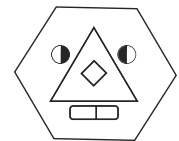
(1)



(2)



(3)



(4)

53. In a shop, there are few sacks of Wheat, Jowar, Bajra, Tur, Sugar. The number of sacks of Sugar's is twice the total of all other sacks. All other sacks of grains are equal i.e. each of 12. Find out the total number of sacks in the shop?

- (1) 60 (2) 144 (3) 96 (4) 180

SPACE FOR ROUGH WORK

A	B	C	D	E	F	G	H	I	J	K	L	M	N	O	P	Q	R	S	T	U	V	W	X	Y
---	---	---	---	---	---	---	---	---	---	---	---	---	---	---	---	---	---	---	---	---	---	---	---	---


49. స్వాతి క్రాంతికన్న 8 సంవత్సరాలు పెద్దది వారి ఇద్దరి ప్రస్తుత వయసుల మొత్తం 44 సంవత్సరాలు కలదు అయితే స్వాతి వయసు 8 సంవత్సరాల క్రింతం ఎంత ఉండెను ?
 (1) 52 (2) 36 (3) 34 (4) 18

50. ఎలుకను పిల్లి, పిల్లిని గాజిద, గాడిదను కుక్క, కుక్కను జింక, జింకను మనిషి, మనిషిని కుందేలు, కుందేలును ఆవు అని అన్నట్లయితే అందరికన్న తెలివిగల జంతువు ఎవరు ?
 (1) మనిషి (2) ఆవు (3) కుందేలు (4) కుక్క





ప్రశ్న 51 మరియు 52 కొరకు సూచన :

కింది ప్రశ్నలో ప్రశ్నాకృతివలె అచ్చము అలాగే ఉన్నది ఉన్నట్లుగల ఆకృతి పర్యాయాలనుండి గుర్తించండి.

51. ప్రశ్నాకృతి



జవాబు ఆకృతి




(1)

(2)

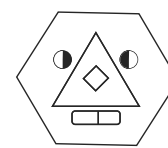
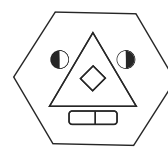
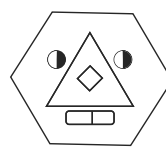
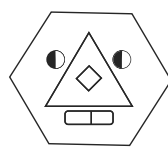
(3)

(4)

52. ప్రశ్నాకృతి



జవాబు ఆకృతి



(1)

(2)

(3)

(4)

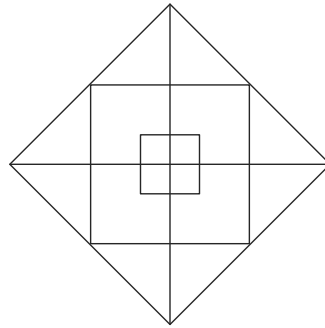
53. ఒక దుకాణంలో గోధుమ, జొన్న, బియ్యం, కందిపప్పు, చెక్కెర వీటి కొన్ని సంచులు కలవు. ఇందులో చెక్కెర సంచులు మిగిలిన అన్ని ధాన్యాల మొత్తం సంచుల సంఖ్యకన్న రెట్టింపు గలవు. అలాగే చెక్కెర తప్ప మిగిలిన సంచులన్ని సమానం అంటే ప్రతివి 12 గలవు అయిన దుకాణంలో మొత్తం ఎన్ని సంచులు కలవు ?
 (1) 60 (2) 144 (3) 96 (4) 180

SPACE FOR ROUGH WORK



A	B	C	D	E	F	G	H	I	J	K	L	M	N	O	P	Q	R	S	T	U	V	W	X	Y
---	---	---	---	---	---	---	---	---	---	---	---	---	---	---	---	---	---	---	---	---	---	---	---	---

54. Find out the total numbers of squares present in the given figure.



- (1) 8 (2) 9 (3) 11 (4) 12

Q. 55 to 59 : Direction :

In each of the following questions three words are given with some common relation. So their group is formed. Select a word from the alternatives given which has the same common feature of the given group.



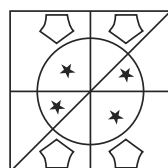

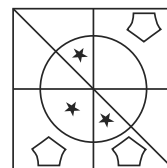
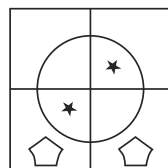
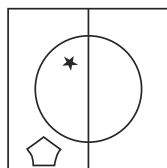
55. Sugar, Salt, Washing soda, _____

- (1) Alum powder (2) Turmeric powder (3) Oil (4) Sand

56. Onion, Garlic, Potato, _____

- (1) Sweet potato (2) Radish (3) Beet root (4) Ginger

57.



(1)

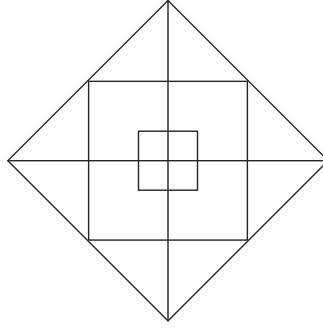
(2)

(3)

(4)

SPACE FOR ROUGH WORK

54. కింది ఆకృతిలో మొత్తం ఎన్ని చతురస్రాలు కలవు ?



- (1) 8 (2) 9 (3) 11 (4) 12

ప్రశ్న 55 నుండి 59 కొరకు సూచన :

ప్రశ్న ప్రారంభంలో మూడు పదాలు ఇవ్వబడినవి, వాటి కొన్ని విశిష్టాలవల్ల వాటి సమూహం ఏర్పడును, ఈ సమూహానికి చెందిన పదము పర్యాయాలనుండి నిశ్చయించండి.



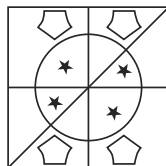

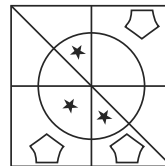
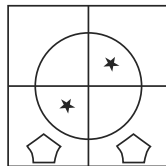
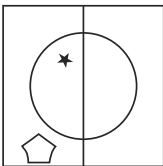
55. చక్కెర, ఉప్పు, బట్టల సోడా (వాషింగ్ సోడా)

- (1) స్పటికం (2) పసుపు (3) నూనె (4) ఇసుక

56. ధాత్రి, పుడమి, భూమి _____

- (1) ఉత్సవము (2) గుర్తు (3) నూరు (4) అవని

57.



(1)

(2)

(3)

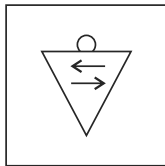
(4)

SPACE FOR ROUGH WORK

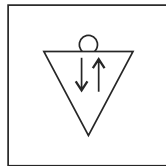


A	B	C	D	E	F	G	H	I	J	K	L	M	N	O	P	Q	R	S	T	U	V	W	X	Y
---	---	---	---	---	---	---	---	---	---	---	---	---	---	---	---	---	---	---	---	---	---	---	---	---

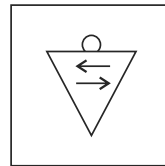
58.



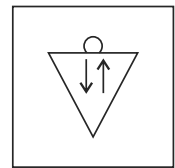
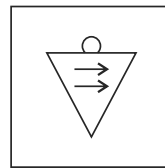
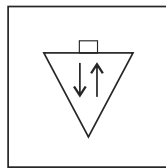

(1)



(2)



(3)



(4)

59. 3412, 4520, 2510, _____

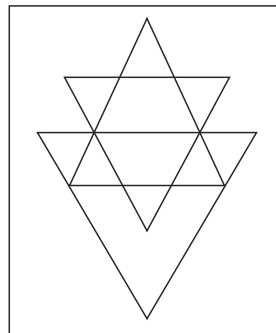
(1) 1234

(2) 2020

(3) 5402

(4) 4416

60. Find out the number of triangles in the given figure.



(1) 14

(2) 11

(3) 10

(4) 13

61. John and Mois are standing in a row. John is at 17th place from the beginning and 8th from back. On the other hand Mois is 6th from the beginning then what will be his position from back?

(1) 24

(2) 19

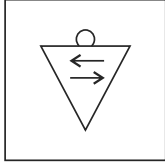
(3) 18

(4) 17

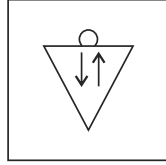
SPACE FOR ROUGH WORK

A	B	C	D	E	F	G	H	I	J	K	L	M	N	O	P	Q	R	S	T	U	V	W	X	Y
---	---	---	---	---	---	---	---	---	---	---	---	---	---	---	---	---	---	---	---	---	---	---	---	---

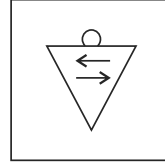
58.



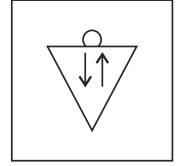
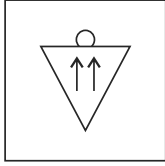
(1)



(2)



(3)



(4)

59. 3412, 4520, 2510, _____


(1) 1234

(2) 2020

(3) 5402

(4) 4416

60. ప్రక్క ఆకృతిలో మొత్తం ఎన్ని త్రిభుజాలు గలవు ?



(1) 14

(2) 11

(3) 10

(4) 13

61. జాన్ మరియు మోహన్ ఒక వరుసలో నిలబడిన్నారు. జాన్ ముందు నుండి 17వ క్రమము మరియు వెనుకనుండి 8వ క్రమంలో ఉన్నాడు. అయిన మోహన్ అదే వరుసలో ముందునుండి 6వ క్రమములో ఉన్నట్లైతే మోహన్ చివరినుండి ఎన్నవ గ్రమంలో ఉండును ?

(1) 24

(2) 19

(3) 18

(4) 17

SPACE FOR ROUGH WORK

A	B	C	D	E	F	G	H	I	J	K	L	M	N	O	P	Q	R	S	T	U	V	W	X	Y
---	---	---	---	---	---	---	---	---	---	---	---	---	---	---	---	---	---	---	---	---	---	---	---	---

62. Rashid is standing facing North East. He turned to his left 3 times in right angles. Which of the following directions will be there to his right?

- (1) South West (2) North West (3) North (4) North East

Q. 63 and 64 : Direction :

In the code language few numbers are denoted using symbols. Study them and find the correct alternative.

Numbers	0	1	2	3	4	5	6	7	8	9
Symbols	+	★	○	□	●	▽	×		@	△

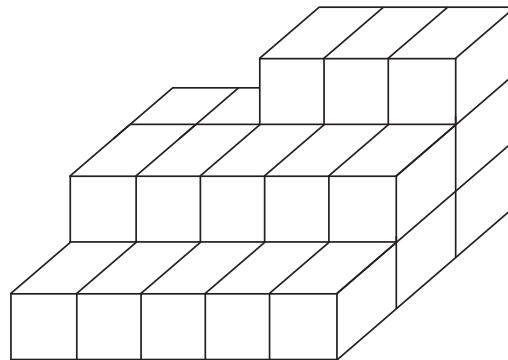
63. △ Subtract □ Multiply + Add ×

- (1) 12 (2) 15 (3) 6 (4) 9

64. ▽ Add || Subtract △ Divide □

- (1) 9 (2) 8 (3) 2 (4) 6

65. In the given figure, how many cubical boxes are there?



- (1) 13 (2) 28 (3) 18 (4) 23

SPACE FOR ROUGH WORK

A	B	C	D	E	F	G	H	I	J	K	L	M	N	O	P	Q	R	S	T	U	V	W	X	Y
---	---	---	---	---	---	---	---	---	---	---	---	---	---	---	---	---	---	---	---	---	---	---	---	---

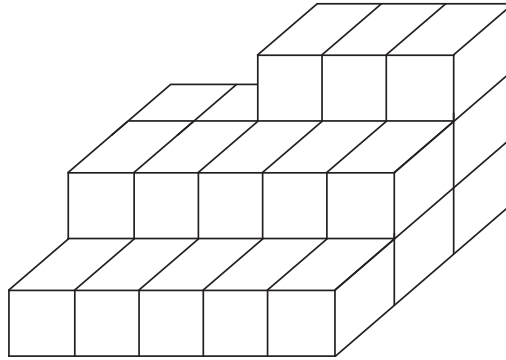
62. రశీద్ ఈశాన్యంవైపు ముఖముచేసి నిలబడి ఉన్నాడు. అతడు లంబకోణంగా ఎడమవైపు మూడుసార్లు తిరిగిన టైతే అతడి కుడిచేయి ఏదిశవైపు ఉండును ?
- (1) నైఋతి (2) వాయువ్యం (3) ఉత్తరం (4) ఈశాన్యం

ప్రశ్న 63 మరియు 64 కొరకు సూచన:

ఒక సాంకేతిక భాషలో అంకెలకొరకు కొన్ని చిహ్నాలను ఇవ్వబడినవి. వాటిని గుర్తుంచుకొని సరియైన పర్యాయమున ఎన్నుకొనుము.

అంకెలు	0	1	2	3	4	5	6	7	8	9
చిహ్నములు	+	★	○	□	●	▽	×		@	Δ

63. Δ తీసివేత □ గుణకారం + కూడిక ×
- (1) 12 (2) 15 (3) 6 (4) 9
64. ▽ కూడిక || తీసివేత Δ భాగాహారం □
- (1) 9 (2) 8 (3) 2 (4) 6
65. కింది ఇవ్వబడిన ఆకృతిలో మొత్తం ఎన్ని ఘనకార చెక్క ముక్కలు కలవు ?



- (1) 13 (2) 28 (3) 18 (4) 23

SPACE FOR ROUGH WORK

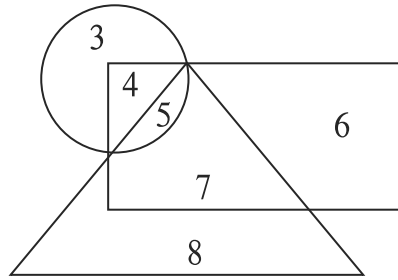
A	B	C	D	E	F	G	H	I	J	K	L	M	N	O	P	Q	R	S	T	U	V	W	X	Y
---	---	---	---	---	---	---	---	---	---	---	---	---	---	---	---	---	---	---	---	---	---	---	---	---

66. In the year 2017. Republic day was on Wednesday then in the same year Dr. Babasaheb Ambedkar Jayanti was on which day?

- (1) Saturday (2) Sunday (3) Thursday (4) Friday

67. Observe the venn diagram carefully and choose the correct answer from the alternatives for the questions given below.

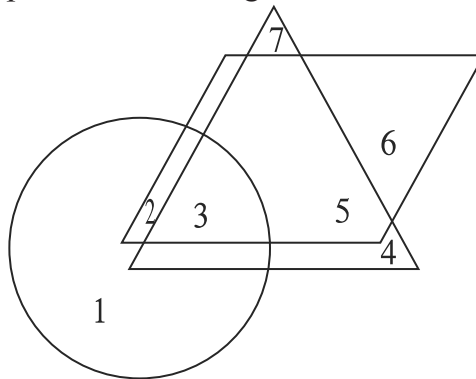
What will be the difference between the sum of numbers that are only in rectangle and triangle to that of the numbers only in circle and rectangle?



- (1) 23 (2) 5 (3) 6 (4) 2

68. The given figure shows the number of musicians in triangle, singers in rectangle and actors in circle. Observe the figure and answer the questions.

Find the number of people who are singers as well as musicians and actors?



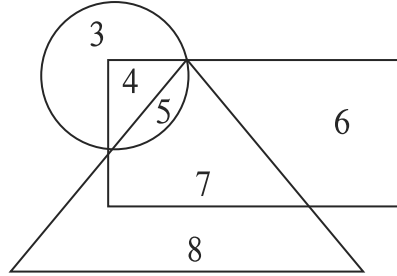
- (1) 3 (2) 4 (3) 5 (4) 2

SPACE FOR ROUGH WORK

66. 2017 సంవత్సరంలో గణతంత్ర దినోత్సవము బుధావరం ఉండెను. అయిన అదే సంవత్సరంలో డా బాబాసాహెబ్ అంబేడ్కర్ జయంతి ఏ రోజు ఉండెను ?

- (1) శనివారము (2) ఆదివారము (3) గురువారము (4) శుక్రవారము

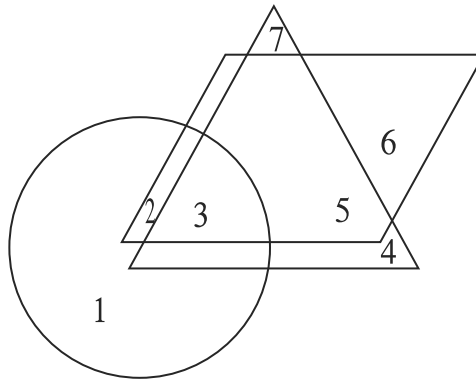
67. కింది వెన్ ఆకృతిని జాకత్రగా పరిశీలించి కింది ప్రశ్నల జవాబులను పర్యాయములనుండి గుర్తించండి.
 ప్రశ్న :- కేవలం చతుర్భుజం మరియు త్రిభుజంలోగల మరియు కేవలం వృత్తం మరియు అంకెల మొత్తం అంకెల ముత్తందీట ఎంత ?



- (1) 23 (2) 5 (3) 6 (4) 2

68. కింది వెన్ ఆకృతిలో త్రిభుజంలో కళాకారులను, చతుర్భుజంలో గాయకులను, వృత్తంలో నర్తకులను చూపబడింది. దాన్ని బట్టి కింది ప్రశ్నలకు జవాబులు రాయండి.

ప్రశ్న: కళాకారుల, గాయకుల మరియు నర్తకుల ఈ మూడు గుణాలుగలవారి మొత్తం సంఖ్య ఎంత ?



- (1) 3 (2) 4 (3) 5 (4) 2

SPACE FOR ROUGH WORK

A	B	C	D	E	F	G	H	I	J	K	L	M	N	O	P	Q	R	S	T	U	V	W	X	Y
---	---	---	---	---	---	---	---	---	---	---	---	---	---	---	---	---	---	---	---	---	---	---	---	---

69. 1st February 2016 was Monday. What was the day on 1st February 2010?

- (1) Monday (2) Tuesday (3) Thursday (4) Friday

70. Select the number to replace the question mark.

4	14	49
9	18	36
16	?	25

- (1) 18 (2) 15 (3) 30 (4) 20

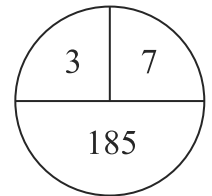
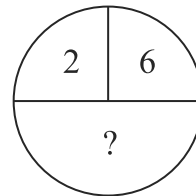
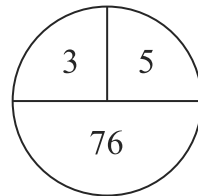
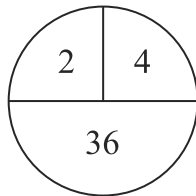
71. In a code language CAP = 341, PAN = 417, RAN = 197 is written like this. In the same language how will be the word CAR written?

- (1) 917 (2) 391 (3) 471 (4) 734

72. In a code language 246 is written as 82448. How will 579 be written in the same code language?

- (1) 305690 (2) 356399 (3) 355699 (4) 356345

73. Select the correct alternative to replace question mark.



- (1) 64 (2) 152 (3) 224 (4) 112

SPACE FOR ROUGH WORK

A	B	C	D	E	F	G	H	I	J	K	L	M	N	O	P	Q	R	S	T	U	V	W	X	Y
---	---	---	---	---	---	---	---	---	---	---	---	---	---	---	---	---	---	---	---	---	---	---	---	---

69. 1 ఫిబ్రవరి 2016 రోజు సోమవారము ఉండెను. అయిన 1 ఫిబ్రవరి 2010 రోజు ఏ వారం ఉండెను ?
 (1) సోమవారము (2) మంగళవారము (3) గురువారము (4) శుక్రవారము

70. ప్రశ్న స్థానంలో వచ్చు సంఖ్యయొక్క పర్యాయమును గుర్తించుము.

4	14	49
9	18	36
16	?	25

(1) 18 (2) 15 (3) 30 (4) 20

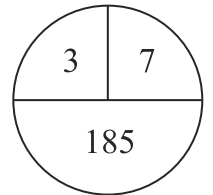
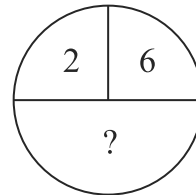
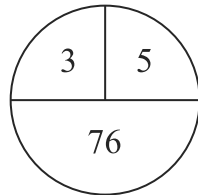
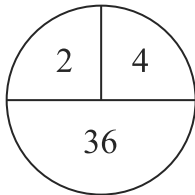
71. ఒక సాంకేతిక భాషలో మదన = 417, సదన = 197, వమన = 341 ఇలా రాసినట్లైతే అదే భాషలో 'వసన' పదం ఎలా రాయాలి ?

(1) 917 (2) 391 (3) 471 (4) 734

72. ఒక సాంకేతిక భాషలో 246 ను 82448 ఇలా రాస్తారు అయిన అదే భాషలో 579ను ఎలా రాస్తారు ?

(1) 305690 (2) 356399 (3) 355699 (4) 356345

73. కింద ఇవ్వబడిన ఆకృతిలో ప్రశ్న చిహ్నము స్థానంలో వచ్చు సంఖ్య యొక్క పర్యాయమును ఎన్నుకొనుము.



(1) 64

(2) 152

(3) 224

(4) 112

SPACE FOR ROUGH WORK

A	B	C	D	E	F	G	H	I	J	K	L	M	N	O	P	Q	R	S	T	U	V	W	X	Y
---	---	---	---	---	---	---	---	---	---	---	---	---	---	---	---	---	---	---	---	---	---	---	---	---

74. Grampanchayat has appealed the local people to contribute in the 'Jalyukta Shivaar' scheme. In this situation which action will be appropriate for Atharva?
- (1) Atharva will plan for an outing with family.
 - (2) Atharva will understand the importance of the scheme and will happily contribute.
 - (3) Atharva will tell people about the drawbacks of the scheme.
 - (4) Atharva will give excuse for an important work and will stay at home.
75. While going to school you see a magic show going on. Your friend Subhash insists you to see that. What will you do?
- (1) Leaving Subhash there, you will go to school.
 - (2) Take along Subhash to school.
 - (3) Tell Subhash the importance of studies and ask him to control the temptation for magic show.
 - (4) Complain to his parents that instead of going to school he keeps watching magic show.

SPACE FOR ROUGH WORK

A	B	C	D	E	F	G	H	I	J	K	L	M	N	O	P	Q	R	S	T	U	V	W	X	Y
---	---	---	---	---	---	---	---	---	---	---	---	---	---	---	---	---	---	---	---	---	---	---	---	---

74. 'వృక్షారోపన' కార్యక్రమము కొరకు గ్రామపచాయతి పౌరులకు శ్రమదానం చేయాలని ఆహ్వానం చేసింది. ఇలాంటి సమయంలో అధర్వ యొక్క ఎలాంటి కృతి సరియైనది?

- (1) అధర్వ కుటుంబ సభ్యులతో బయటికి వెళ్ళాలని ఆలోచిస్తాడు.
- (2) అధర్వ శ్రమదానం యొక్క ప్రాముఖ్యతను తెలుసుకొని శ్రమదానంలో పాల్గొనును.
- (3) వృక్షారోపణ వల్ల కలుగు లోపాలను ప్రజలకు తెలియజేయును.
- (4) ముఖ్యమైన పని ఉందని చెప్పి ఇంట్లోనే ఉండుటకు ఇష్టపడును.

75. పాఠశాలకు వెళ్తున్నప్పుడు దారిలో విద్య జరుగుతుంది అప్పుడు నీ మిత్రుడు సుభాష్ అది చూడాలని ఆగ్రహించేస్తే అలాంటి సమయంలో నీవు ఏమిచేస్తావు ?

- (1) సుభాష్‌ను అక్కడే వదిలి నేను పాఠశాలకు వెళ్తాను.
- (2) సుభాష్‌ను ఈ డ్యుకొని పాఠశాలకు తీసుకొవెళ్తాను.
- (3) సుభాష్‌కు చదువు యొక్క ప్రాముఖ్యతను తెలియజేసి గరడి విద్యులపట్లగల మోహాన్ని తగ్గించుకోమని చెప్పెదను.
- (4) సుభాష్ ఇంటికి వెళ్ళి అతడు పాఠశాలకు రాకుండా ఆటలను చూస్తాడని అతడి తల్లిదండ్రులకు ఫిర్యాదు చేస్తాను.

SPACE FOR ROUGH WORK

SPACE FOR ROUGH WORK