

ప్రీ-సెకండరీ స్కూల్స్ లిస్ట్ ఎగ్జామినేషన్ (8వ తరగతి), మే 2021

సీటు నం.

--	--	--	--	--	--	--	--	--	--

0	7	2	2
---	---	---	---

సెట్



పేపర్ నెం. II

మీడియం : తెలుగు

సమయం : 1:30 నుండి 3:00 వరకు

పేజీలు : 32

తృతీయ భాష మరియు ఇంటెలిజెన్స్ పరీక్ష

మొత్తం మార్కులు : 150

ప్రశ్న పత్రిక సాధించుటకు ముందు కింది సూచనలను శ్రద్ధగా చదవండి.

- (1) ఈ ప్రశ్న పత్రికలో రెండు విభాగములు కలవు. వాటిలో విభాగం - I లో తృతీయ భాష విషయం కొరకు 1 నుండి 25 మరియు విభాగము - II లో ఇంటెలిజెన్స్ పరీక్ష కొరకు 26 నుండి 75 ఈ విధంగా ప్రశ్న పత్రికలో 75 ప్రశ్నలు కలవు అన్ని ప్రశ్నలు సాధించుట అనివార్యము.
- (2) ప్రతి ప్రశ్న కొరకు 2 మార్కులు కలవు.
- (3) ప్రశ్న పత్రిక సాధించుట కొరకు మొత్తం 90 నిమిషాల సమయం ఇవ్వబడును.
- (4) జవాబును గుర్తించుట కొరకు స్వతంత్ర ఉత్తర ప్రతిక ఇవ్వబడినది. ప్రతి ప్రశ్న క్రమసంఖ్య ముందు నాలుగు పర్యాయముల కొరకు క్రమసంఖ్యగల వృత్తములు ఇవ్వబడినవి అందులో సరియైన జవాబుయొక్క పర్యాయ క్రమ సంఖ్యగల వృత్తాన్ని కింది ఉదాహరణలో చూపించిన విధంగా రంగరించండి.
ఉదా : ప్రశ్న క్ర 6 యొక్క జవాబు క్రమసంఖ్య 2 అయితే, దానిని క్రింది విధంగా గుర్తించండి.
ప్రశ్న నం. 6 - ① ● ③ ④
- (5) క్రింది విధంగా గుర్తించిన జవాబులు పరిగణింపబడవు, ఇలా జవాబు వ్రాసినట్లయితే 'సున్న' మార్కులు ఇవ్వబడును.
ఉదా : ① ② ● ④
- (6) ప్రశ్న పత్రికలో అత్యధికంగా 20% ప్రశ్నలకు సంబంధించిన జవాబుల నాలుగు పర్యాయములలోని రెండు పర్యాయములు సరియైనవి ఉంటాయి. ఆ రెండు పర్యాయములు గుర్తించడం అనివార్యము. దాని కొరకు ఆ ప్రశ్న ముందు 'రెండు సరియైన పర్యాయములను గుర్తించండి' అని సూచనలు ఇవ్వబడినవి.
- (7) రెండు సరియైన పర్యాయములను గుర్తించండి. ఇలా సూచనలు ఇచ్చిన ప్రశ్నలకు వదిలి మిగిలి ప్రశ్నలకు ప్రతి ప్రశ్నకొరకు ఒకటి కంటే ఎక్కువ వృత్తాలను గుర్తించిన జవాబులు కొట్టివేసి ఇచ్చిన జవాబులు పరిగణించబడవు.
- (8) ఒకసారి గుర్తించిన జవాబులు తిరిగి మార్పుటకు వీలుపడదు.
- (9) జవాబులు గుర్తించునపుడు నలుపు లేదా నీలి రంగు బాల్ పెన్నును మాత్రమే ఉపయోగించవలెను, పెన్సిల్ తో గుర్తించినవి పరిగణలోనికి తీసుకోబడవు.
- (10) ప్రశ్నపత్రంలో ప్రతి పేజీలో క్రింది భాగంలో మరియు చివరి పేజీలో చిత్తుపని చేసుకొనుటకు ఖాళీ స్థలం కలదు. అందులోనే చిత్తుపని చేయవలెను.
- (11) పరీక్షకు నిర్ణీత సమయము ఉన్నందున ఏదేని ప్రశ్నకు జవాబు తెలియకున్నా అది వదిలి దానిముందున్న ప్రశ్నలను సాధించండి. చివరకు సమయం ఉన్నచో విడిచిన ప్రశ్నలను సాధించుటకు ప్రయత్నించండి.
- (12) ఏదేని ప్రశ్నలో తప్ప కనిపించినట్లయితే దాని గురించి పర్యవేక్షకుడు లేదా ప్రరీక్ష కేంద్ర సంచాలకుని వద్దకు వెళ్ళ విచారించకూడదు.
- (13) ప్రశ్నలోని లోపం/తప్పు/అభ్యంతరాల గురించి ఫిర్యాదులకు సంబంధించిన లిఖిత పూర్వక వినతి పత్రం పాఠశాల లేక తల్లిదండ్రులు బ్లాక్ ఎడ్యుకేషన్ ఆఫీసర్ లేదా ఎడ్యుకేషన్ ఆఫీసర్ కు లిఖితపూర్వక దరఖాస్తు పంపకూడదు. ఈ లోపం/పొరపాటు/ అభ్యంతర సమస్యలు సంబంధిత పాఠశాల లాగిన్ ద్వారా మాత్రమే ఆన్లైన్ లో నమోదు చేసు కొవాలి.
- (14) లోపం/తప్పు/అభ్యంతరాల గురించి లిఖిత పూర్వక వినతి పత్రం పంపవలసిన గడువు పరీక్ష పరిషద్ యొక్క సంకేత స్థాలానికీ (Website) తాత్కాలిక ఉత్తర (జవాబు) సూచిక విడుదల చేసిన 10 (పది) రోజుల వరకు ఉంటుంది.
- (15) ముద్రణ దోషాలు లేక ఇతర కారణాల వలన ప్రశ్న తప్పగా ఉన్నట్లు తెలిస్తే నిపుణుల సమితి అభిప్రయం ప్రకారం తగిన చర్య తీసుకోబడును.
- (16) తెలుగు మీడియంతో పాటు ఇంగ్లీష్ భాషలోకూడా ప్రశ్న పత్రం ఇవ్వబడినది. తెలుగు మీడియంలోని సందిగ్ధ ప్రశ్నలకొరకు ఇంగ్లీష్ ప్రశ్నలు చూడండి.

Section - I

Instructions for Q. 01 to Q. 03

Read the passage and choose the correct option :

I was nineteen when I saw my first tiger in the wild, and it was every bit as trilling as I had imagined. I was in Kanha Tiger Reserve in Madhya Pradesh, seated on a young tame elephant that was barely six feet tall. The elephant and its teenage mahout were being trained to track tigers. I sat behind the boy mahout and hung on to a rope. Suddenly, a sight of cute tiger caught my eye. There behind the narrow path, sat a handsome young tiger. For a heart - stopping moment, we looked each - other with mutual surprise.

- 01.** The writer saw his first tiger at the age of
- (1) 13 (2) 90 (3) 19 (4) 20
- 02.** Choose the correct two options.
Where did the boy notice the cute tiger?
- (1) in the kanha tiger reserve (2) near the elephant
(3) behind the narrow path (4) in front of the mahout
- 03.** Choose the two correct options.
Who was trained to track the tigers?
- (1) the elephant (2) the mahout (3) the tiger (4) the boy

SPACE FOR ROUGH WORK



04. Choose the correct option.

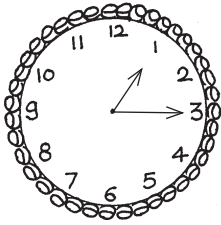
The climate of Chennai is hotter than the climate of Bangalore.

In the above sentence the comparison is about

- (1) Chennai (2) Bangalore
(3) Climate of the city (4) City

05. Look at the following picture of clock and find out one correct alternative.

The clock shows



- (1) quarter past 3
(2) quarter to 2
(3) quarter past 1
(4) quarter to 3

06. Choose one correct alternative from the following option.

The scientific study of metals and their uses means

- (1) allurgy (2) metallurgy (3) chemistry (4) extract

07. Find out the words which is related to 'parts of plants' leaves, flowers, stem.....

- (1) bark (2) feather (3) horn (4) soil

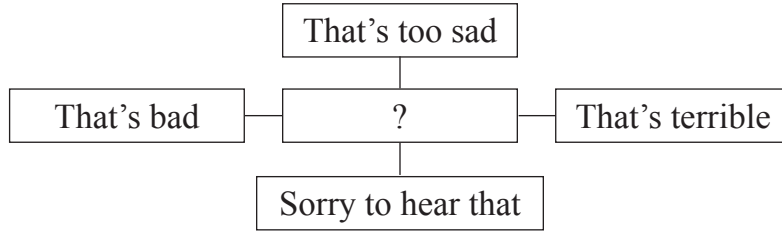
08. Read the following sentence and choose one correct alternative of the underlined phrase.

When teacher announced holiday, all the students sprang up from the benches.

- (1) return to original place (2) quick m
(3) cheerful (4) particular season


SPACE FOR ROUGH WORK

09. Read the following responses in the following web choose the correct alternative.



- (1) good news
- (2) appeal to save water
- (3) victory
- (4) bad news

10. Choose one correct alternative.

What is it ? - Which begins with 'T', ends with 't', and has  in it?

- (1) time
- (2) tea-pot
- (3) pot
- (4) tea

Instructions for question no. 11 and 12

Read the advertisement and choose one correct alternative.

Time for 'Back to School'
Don't wait, come fast
Fill up your pouches with

get pens, pencils, erasers, pro-circles,
whiteners, stickers etc.

At knowledge stores
Contact us - www.kst.com

Our features

- 1) good quality
- 2) reasonable rate
- 3) no exchange
- 4) no discounts

11. Choose the correct option.

What is the name of the store?

- (1) Knowledge store
- (2) Don't wait, come fast
- (3) Fill up pouches
- (4) Back to school

SPACE FOR ROUGH WORK



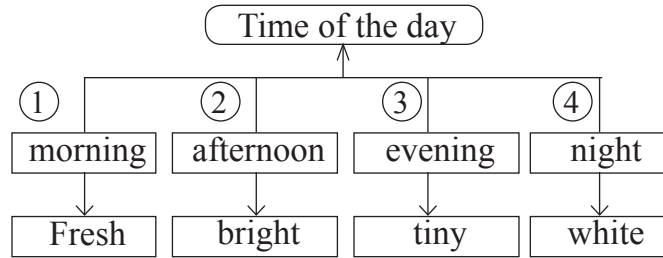
12. How much discount we get on - pens, pencils etc?
(1) 10% (2) 20% (3) no discounts (4) 50%

13. Choose one correct alternative.
Find out the object and its colour from the grid.

B	A	C
P	P	M
E	P	A
A	L	L
R	E	D

- (1) APPLE - RED
(2) MANGO - YELLOW
(3) PEAR - GREEN
(4) CHILLI - GREEN

14. Choose two options from the following tree diagram of wrong pairs.



- (1) 4 (2) 2 (3) 3 (4) 1

15. Choose one correct alternative for the underlined word.
Ruby's teacher suggested to practise a lot of exercises.
It was a good advice.
(1) noun (2) verb (3) adjective (4) adverb

16. Choose the alternative. Which word is wrongly used in the following question.
Do she recognize her childhood friend?
(1) recognize (2) friend (3) do (4) childhood

SPACE FOR ROUGH WORK

17. Read the following sentence and find out the type of sentences. Choose one correct answer.

Sancho Panza said, "God bless me!"

- (1) Imperative sentence (2) Exclamatory sentence
(3) Assertive sentence (4) Interrogative sentence

18. Choose the correct alternative to complete the sentences.

Sakshi and her friends have lot of homework to complete. So they not come to party.

- (1) might (2) need (3) may (4) do

19. Complete the following sentence using simple past tense. Choose one correct alternative.

Once upon a time there was a girl called Alyonushka. Alyonushka with her parents and baby brother.

- (1) live (2) lived (3) will live (4) lives

20. Find out the sentence which is not in active voice. Choose the correct option

- 1) Honey is made by bees
2) I saw him opening the box.
3) I was offered a chair
4) The letter was written by the clerk.

- (1) 4 (2) 2 (3) 1 (4) 3

21. Complete the sentence using correct alternative.

The teacher said that the earth round the sun.

- (1) go (2) had gone (3) goes (4) will go

SPACE FOR ROUGH WORK



Instructions for question no. 22 and 23

Read the passage and choose the correct alternative.

Wikipedia is called the free encyclopedia. You don't have to buy it from the shop, borrow it from a library or pay any money to be able to read it on the net. At one click of the mouse, it is there for you to read. It is available on the world wide web (www). It contains information on thousands of topics in form of articles. Wikipedia is operated by the Non-profit Wikipedia Foundation.

22. Wikipedia is easily available at
- (1) shop (2) library (3) mall (4) net
23. The information on wikipedia is
- (1) in form of couplets (2) in form of dialogues
(3) in form of articles (4) in form of table
24. Choose the correct option
'Drop everything and read,
'It's an access towards success' This slogan is related to
- (1) plants (2) library (3) reading (4) fame
25. Choose the correct option.
Bina sent message, "How was your exam?"
She got an answer, 'ez' can you guess the meaning?
- (1) easily (2) with ease (3) easy (4) difficult

SPACE FOR ROUGH WORK

A B C D E | F G H I J | K L M N O | P Q R S T | U V W X Y

SECTION - II

INTELLIGENCE TEST

Q. 26 and 27 :

Use the given number series.

2 3 5 7 2 4 6 7 3 2 8 2 9 4 3 5 7 1 2 6

26. In the given number series how many times the sum of two adjacent numbers gives a prime number?
(1) Six (2) Seven (3) Five (4) Eight
27. Which number occurs maximum times in the given series?
(1) 7 (2) 3 (3) 4 (4) 2
28. Form a meaningful word from the letters 'R E O M'. What is the position of the letters in this word which is used to indicate the word 'Options'?
(1) fourth, second (2) second, third
(3) first, fourth (4) first, third
29. In the given alphabet series which letter is seventh to the left of the letter which is eighth from the right side of the series?
(1) K (2) O (3) M (4) A

SPACE FOR ROUGH WORK

SECTION - II

ఇంటెలిజెన్స్ పరీక్ష

ప్రశ్న 26 మరియు 27 కొరకు ఇవ్వబడిన అంకెలమాలికను ఉపయోగించండి.

అంకెలమాలిక 2 3 5 7 2 4 6 7 3 2 8 2 9 4 3 5 7 1 2 6

26. ఇవ్వబడిన అంకెలమాలికలో ప్రక్కప్రక్కనగల రెండు అంకెల మొత్తం ప్రధాన సంఖ్య అవుతుంది, ఇలా ఎన్నిసార్లు వచ్చాయి ?

- (1) ఆరు (2) ఏడు (3) ఐదు (4) ఎనిమిది

27. ఇవ్వబడిన అంకెలమాలికలో ఎక్కువసార్లు ఏ అంకె వచ్చింది ?

- (1) 7 (2) 3 (3) 4 (4) 2

28. 'ఆ ము కా శ' ఈ అక్షరాలతో తయారగు అర్థవంతమైన పదములోని అనుక్రమంగా ఏ క్రమము అక్షరాలతో 'నిరాశ' పదానికి వ్యతిరేక పదం తయారగును ?

- (1) 1, 2 (2) 1, 3
(3) 1, 4 (4) 4, 1

29. ఇవ్వబడిన ఇంగ్లీష్ అక్షరమాలికలో కుడివైపునుండి ఎనిమిదవ అక్షరానికి ఎడమవైపు ఎడవ అక్షరమేది ?

- (1) K (2) O (3) M (4) A

SPACE FOR ROUGH WORK



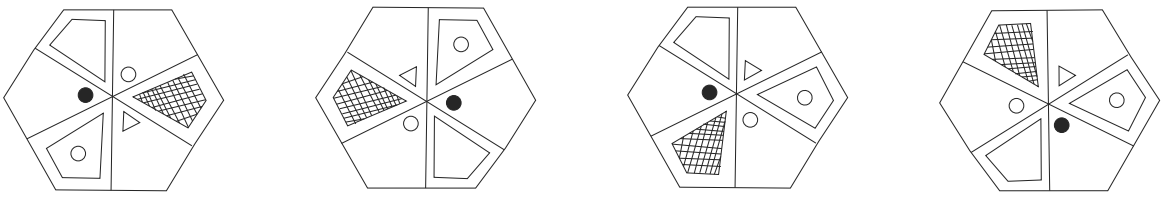
A	B	C	D	E	F	G	H	I	J	K	L	M	N	O	P	Q	R	S	T	U	V	W	X	Y
---	---	---	---	---	---	---	---	---	---	---	---	---	---	---	---	---	---	---	---	---	---	---	---	---

30. In the given alphabet series which of the following pair of alphabet is at the same distance from the alphabet which is at the Ninth position from the left of the series? (Select two correct alternatives.)
- (1) FL (2) BN (3) BL (4) OC

Q. 31 to 35 Choose the odd term

31. (1) Divine (2) Deity (3) God (4) Ghost

32. (1) Loose motion (2) Malaria (3) Cholera (4) Dysentery

33. 
- (1) (2) (3) (4)

34. (1) 210 (2) 336 (3) 150 (4) 504

35. (1) CH (2) EJ (3) LB (4) FD

Q. 36 to 40 Direction : -

In each of the following questions relation between 3rd and 4th term is similar to that as between 1st and 2nd term. Find the term to replace the question mark from the given alternatives.

36. Cause : Reason :: Perfect : ?
- (1) Pure (2) Imperfect (3) Idle (4) Ideal

SPACE FOR ROUGH WORK

A	B	C	D	E	F	G	H	I	J	K	L	M	N	O	P	Q	R	S	T	U	V	W	X	Y
---	---	---	---	---	---	---	---	---	---	---	---	---	---	---	---	---	---	---	---	---	---	---	---	---

30. ఇవ్వబడిన ఇంగ్లీష్ అక్షరమాలికలో తొమ్మిదవ అక్షరంనుండి సమాన దూరంలోగల అక్షరాల జత ఏది ?
(రెండు సరియైన పర్యాయాలను గుర్తించండి)

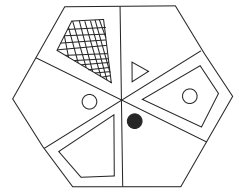
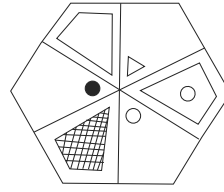
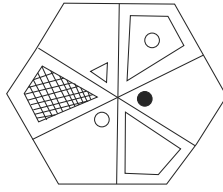
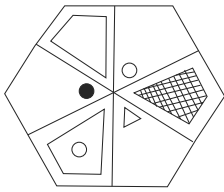
- (1) FL (2) BN (3) BL (4) OC

ప్ర. 31 నుండి 35 కొరకు సూచన : సమాహానానికి చెందని పదమును గుర్తించండి.

31. (1) మహారాష్ట్ర (2) కర్ణాటక (3) ఆంధ్రప్రదేశ్ (4) చెన్నై

32. (1) కుర్రీలు (2) ఆకు (3) బల్లులు (4) ప్రతికలు

33.



(1)

(2)

(3)

(4)

34. (1) 210 (2) 336 (3) 150 (4) 504

35. (1) CH (2) EJ (3) LB (4) FD

ప్ర. 36 నుండి 40 కొరకు సూచన : స్రహసంబంధమును గుర్తించి ప్రశ్నచిహ్న స్థానంలో పర్యాయము వచ్చును గుర్తించండి :

36. మహాతీవాచకం : రాధ మహద్వాచకము ?

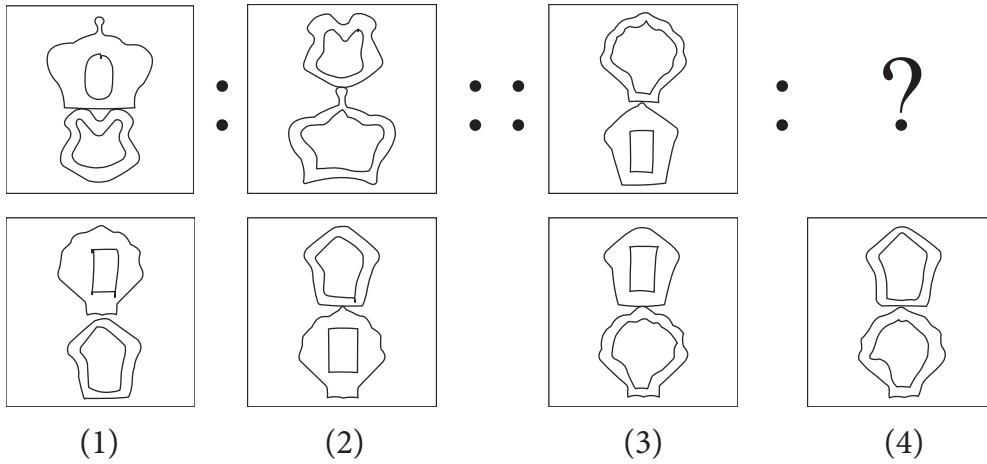
- (1) ఆమె (2) పుస్తకము (3) కమల (4) రాముడు

SPACE FOR ROUGH WORK



A	B	C	D	E	F	G	H	I	J	K	L	M	N	O	P	Q	R	S	T	U	V	W	X	Y
---	---	---	---	---	---	---	---	---	---	---	---	---	---	---	---	---	---	---	---	---	---	---	---	---

37.



38. 69 : 123 :: 48 : ? (Select two correct alternatives)

- (1) 112 (2) 102 (3) 80 (4) 84

39. 394 : 54 :: 875 : ?

- (1) 55 (2) 94 (3) 140 (4) 146

40. ADJ : BFM :: CIO : ?

- (1) DKR (2) ELR (3) DKQ (4) DJP

Q. 41 to 45 Direction :-

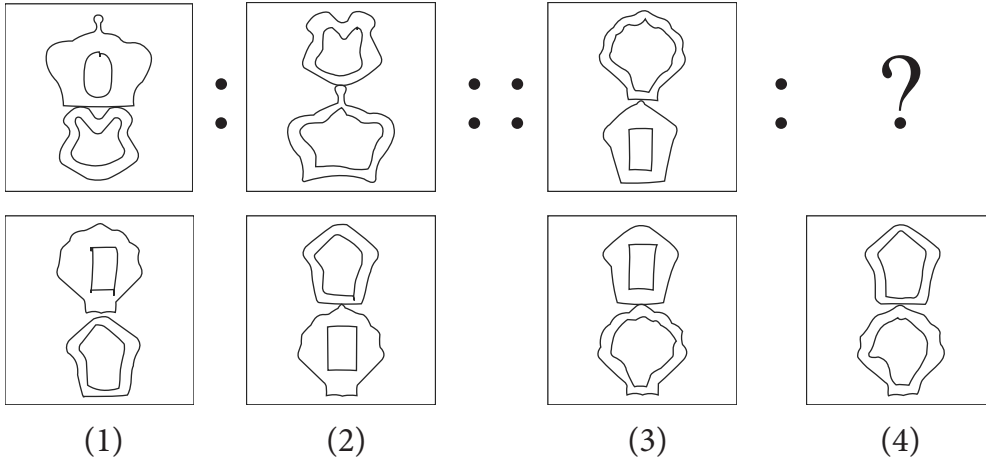
In the following series, determine the rule underlying the series and find out the term to replace the question mark.

41. 812, 715, 626, 543, 464, 391, ?

- (1) 316 (2) 320 (3) 318 (4) 309

SPACE FOR ROUGH WORK

37.



38. 69 : 123 :: 48 : ? (రెండు సరియైన పర్యాయాలను గుర్తించండి)

- (1) 112 (2) 102 (3) 80 (4) 84

39. 394 : 54 :: 875 : ?

- (1) 55 (2) 94 (3) 140 (4) 146

40. ADJ : BFM :: CIO : ?

- (1) DKR (2) ELR (3) DKQ (4) DJP

ప్రశ్న 41 నుండి 45 కొరకు సూచన : మాలికలోని ప్రశ్నచిహ్నము స్థానంలో ఏ పర్యాయము వచ్చును గుర్తించండి.

41. 812, 715, 626, 543, 464, 391, ?

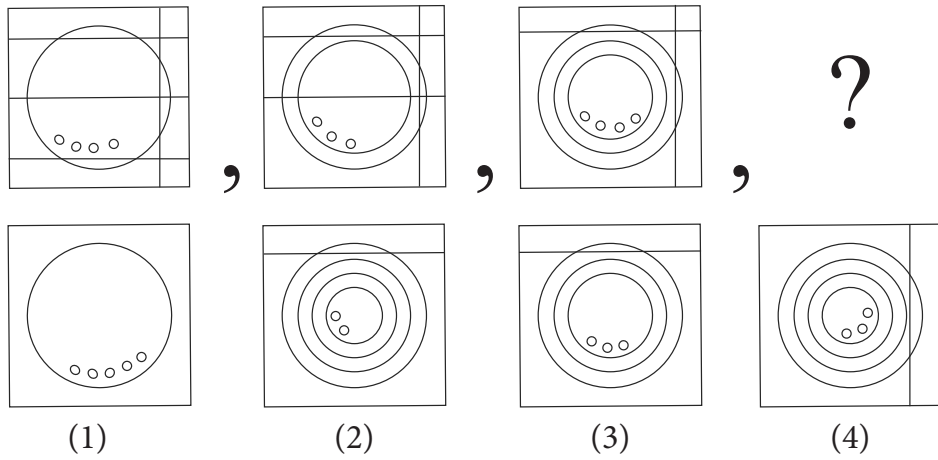
- (1) 316 (2) 320 (3) 318 (4) 309

SPACE FOR ROUGH WORK



A	B	C	D	E	F	G	H	I	J	K	L	M	N	O	P	Q	R	S	T	U	V	W	X	Y
---	---	---	---	---	---	---	---	---	---	---	---	---	---	---	---	---	---	---	---	---	---	---	---	---

42.



43. $\ominus \triangle \square \triangle \square \oplus \square \oplus \triangle \oplus \triangle \square \triangle \square \ominus \square ? ?$

- (1) $\oplus \triangle$ (2) $\ominus \triangle$ (3) $\ominus \square$ (4) $\triangle \oplus$

44. BC, EG, HK, KO, NS, ?

- (1) NR (2) QK (3) EG (4) QW

45. YXW, XVT, WSP, VOK, ?

- (1) UJE (2) UJF (3) YKE (4) XKE

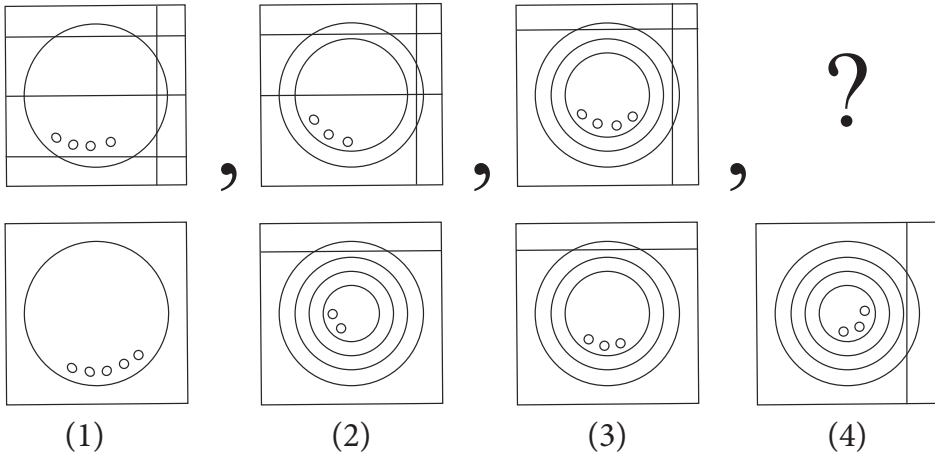
46. Select the wrong term in the given series :

13, 16, 22, 26, 38, 62, 76, 102

- (1) 38 (2) 62 (3) 76 (4) 16

SPACE FOR ROUGH WORK

42.



43.



- (1) (2) (3) (4)

44. BC, EG, HK, KO, NS, ?

- (1) NR (2) QK (3) EG (4) QW

45. YXW, XVT, WSP, VOK, ?

- (1) UJE (2) UJF (3) YKE (4) XKE

46. కింద ఇవ్వబడిన మాలికలో తప్ప, పదమును గుర్తించండి.

13, 16, 22, 26, 38, 62, 76, 102

- (1) 38 (2) 62 (3) 76 (4) 16

SPACE FOR ROUGH WORK

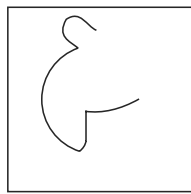



A	B	C	D	E	F	G	H	I	J	K	L	M	N	O	P	Q	R	S	T	U	V	W	X	Y
---	---	---	---	---	---	---	---	---	---	---	---	---	---	---	---	---	---	---	---	---	---	---	---	---

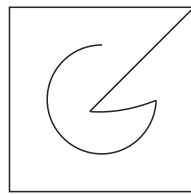
47. Find the hidden part of the question figure from the given alternatives.

Question Fig.

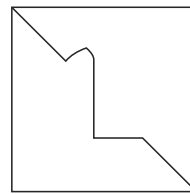
Answer Fig.



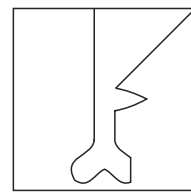
(1)



(2)



(3)

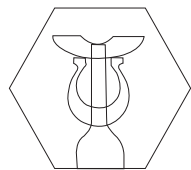



(4)

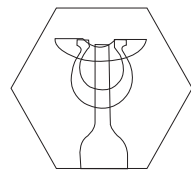
48. Choose the figure from the given alternatives that exactly matches the question figure.

Question Fig.

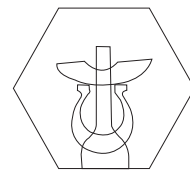
Answer Fig.



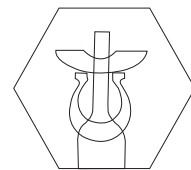
(1)



(2)



(3)

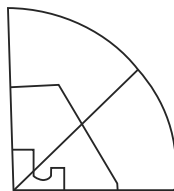
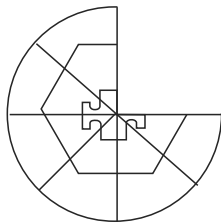


(4)

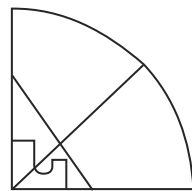
49. Choose the correct alternative to complete the question figure :

Question Fig.

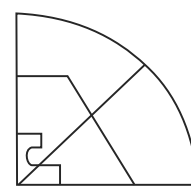
Answer Fig.



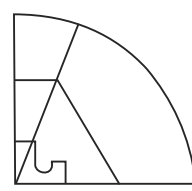
(1)



(2)



(3)



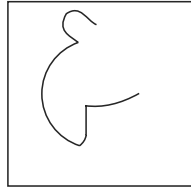

(4)

SPACE FOR ROUGH WORK

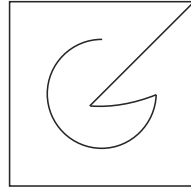
47. ప్రశ్నకృతిలో దాగివున్న భాగము ఏ పర్యాయములో ఉందో గుర్తించండి.

ప్రశ్నకృతి

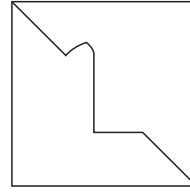
జవాబు ఆకృతి



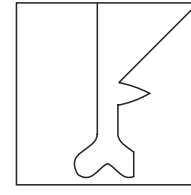
(1)



(2)



(3)

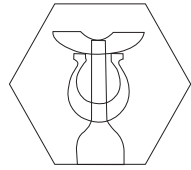



(4)

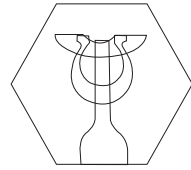
48. ప్రశ్నకృతివల అచ్చము అలాగే ఉన్నది ఉన్నట్లుగల ఆకృతిని పర్యాయాలనుండి గుర్తించండి.

ప్రశ్నకృతి


జవాబు ఆకృతి




(1)



(2)



(3)

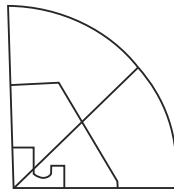
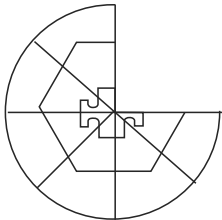


(4)

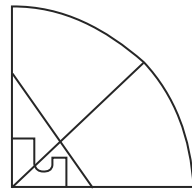
49. పూర్తిగాలేని ఆకృతిని పూర్తి చేయుటకొరకు సరియైన పర్యాయమును గుర్తించండి.

ప్రశ్నకృతి

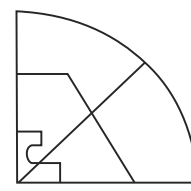
జవాబు ఆకృతి



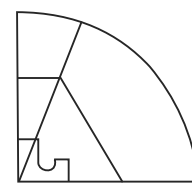
(1)



(2)



(3)



(4)

SPACE FOR ROUGH WORK



A	B	C	D	E	F	G	H	I	J	K	L	M	N	O	P	Q	R	S	T	U	V	W	X	Y
---	---	---	---	---	---	---	---	---	---	---	---	---	---	---	---	---	---	---	---	---	---	---	---	---

50. Observe the numbers in the grid and choose the correct alternative to replace the question mark.

7	6	8
28	4	?
12	2	15

(1) 34

(2) 60

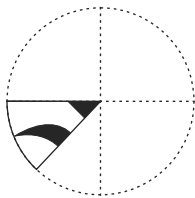
(3) 17

(4) 40


Q. 51 and 52 Direction :

A square sheet of paper is folded and cut as shown in the question figure. How will the figure look like when the paper is unfolded. Choose the correct alternative.


51. Question Fig.




Answer Fig.




(1)



(2)

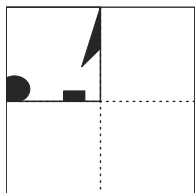


(3)

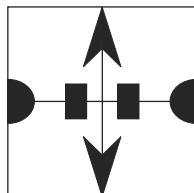


(4)

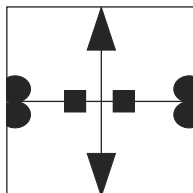
52. Question Fig.



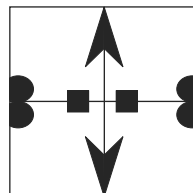
Answer Fig.



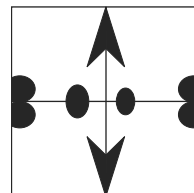
(1)



(2)



(3)



(4)

SPACE FOR ROUGH WORK

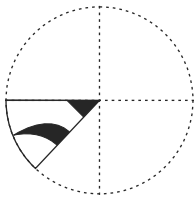
50. ప్రశ్నచిహ్నము స్థానంలో ఏ సంఖ్యవచ్చును పర్యాయాలనుండి గుర్తించండి.

7	6	8
28	4	?
12	2	15




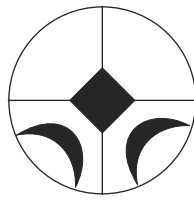
- (1) 34 (2) 60 (3) 17 (4) 40

ప్రశ్న 51 మరియు 52 కొరకు సూచన : మడతబెట్టిన ఆకృతిని తెరిచినతర్వాత పర్యాయాలలోని ఏ ఆకృతి విధంగా కనబడును ?

51. ప్రశ్నాకృతి

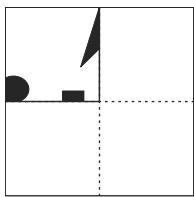


జవాబు ఆకృతి

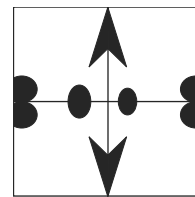
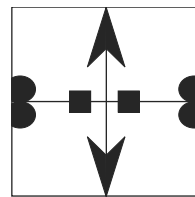
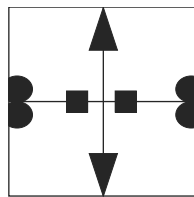
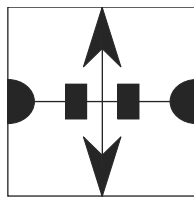


- (1) (2) (3) (4)

52. ప్రశ్నాకృతి



జవాబు ఆకృతి

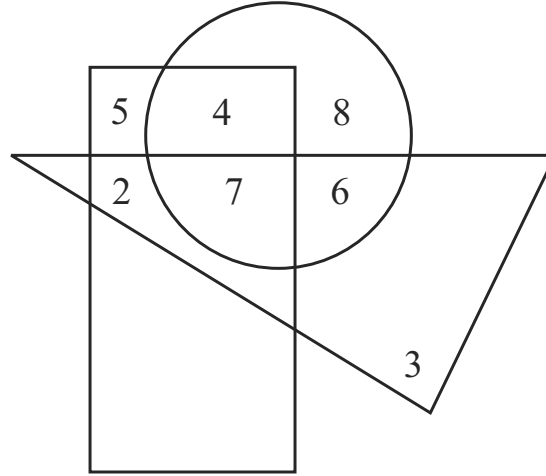


- (1) (2) (3) (4)

SPACE FOR ROUGH WORK

Q. 53 and 54 Direction :

In the given Venn diagram numbers in circle represent farmers, numbers in triangle represent teachers and numbers in rectangle represent doctors.



53. How many teachers are farmers also?

- (1) 6 (2) 13 (3) 24 (4) 17

54. By how much is the number of doctors who are doing only farming is more or less than the number of teachers who are only doctors?

- (1) more by four (2) less by four
 (3) more by two (4) less by two

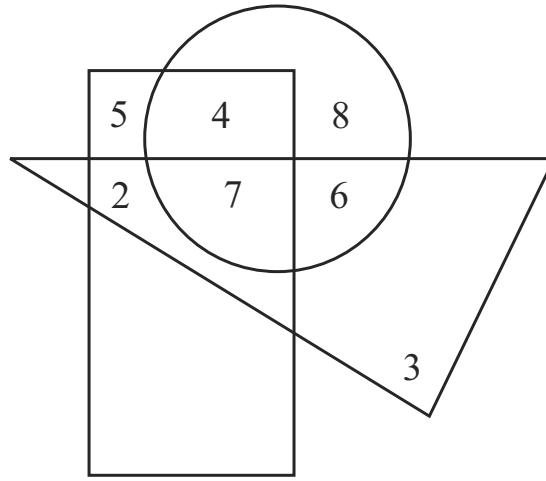
55. If Maharashtra Day occurs on Wednesday then which of the following day will occur five times in the month of September in the same year? (Select two correct alternatives)

- (1) Sunday (2) Saturday (3) Tuesday (4) Monday

SPACE FOR ROUGH WORK

ప్రశ్న 53 మరియు 54 కొరకు సూచన :

కింది వెన్ ఆకృతిలో వృత్తంలో రైతుల సంఖ్యను, త్రి భుజంలో ఉపాధ్యాయుల సంఖ్యను మరియు దీర్ఘచతుస్రంలో వైద్యుల సంఖ్యను చూపబడింది.



53. రైతులైన ఉపాధ్యాయుల సంఖ్య ఎంత ?

- (1) 6 (2) 13 (3) 24 (4) 17

54. కేవలం వ్యవసాయం చేయ వైద్యుల సంఖ్య, కేవలం వైద్యులైన ఉపాధ్యాయులకన్న ఎంత ఎక్కువ లేదా తక్కువ కలరు ?

- (1) నాలుగు ఎక్కువ (2) నాలుగు తక్కువ
(3) రెండు ఎక్కువ (4) రెండు తక్కువ

55. ఒక వేళ 'మహారాష్ట్ర దినోత్సవము' బుధవారం ఉన్నట్లైతే సెప్టెంబర్ నెలలో ఏ వారములు ఐదు సార్లు వస్తాయి ? (రెండు సరియైన పర్యాయాలను గుర్తించండి)

- (1) ఆదివారము (2) శనివారము (3) మంగళవారము (4) సోమవారము

SPACE FOR ROUGH WORK

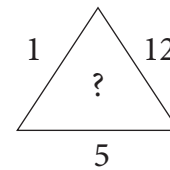
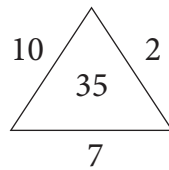
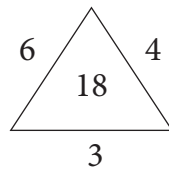
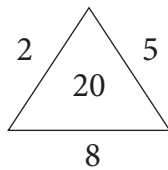


A	B	C	D	E	F	G	H	I	J	K	L	M	N	O	P	Q	R	S	T	U	V	W	X	Y
---	---	---	---	---	---	---	---	---	---	---	---	---	---	---	---	---	---	---	---	---	---	---	---	---

56. Abhishek is watching the sunset, he turns three times at right angle to his right, then which direction is indicated by his left hand?
(1) South (2) East (3) West (4) North

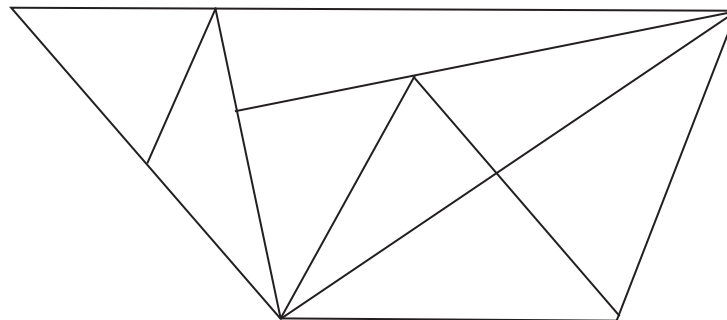
57. Akshay is standing at the 19th position which is middle of the row. If last eight students leave the row then what is the position of Prasanna from back of the row who is at the ninth position from the front of the row?
(1) 20 (2) 19 (3) 29 (4) 21

58. Find the pattern of the numbers in the given arrangement and choose the correct alternative to replace the question mark.



- (1) 15 (2) 30 (3) 24 (4) 27

59. Find the total number of triangles in the given figure?



- (1) 15 (2) 16 (3) 17 (4) 14

SPACE FOR ROUGH WORK

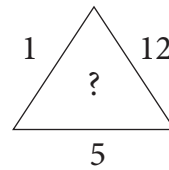
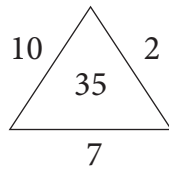
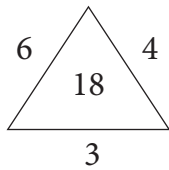
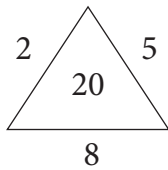
56. అభిషేక్ సూర్యాస్తమన చూస్తున్నాడు అప్పుడు అతడు మూడుసార్లు లంబకోణంగా కుడివైపు తిరికెను అయిన అతడి ఎడుమ చేయి దిశ ఏది ?

- (1) దక్షిణం (2) తూర్పు (3) పడమర (4) ఉత్తరం

57. వరుస మధ్యలో 19వ క్రమంలో అక్షమ్ నిలబడి వున్నాడు. ఒకవేళ వరుసలోని చివరి ఎనిమిది, మంది విద్యార్థులు వెళ్ళి నట్లైతే ముందు నండి తొమ్మిదవ క్రమంలోగల ప్రసన్నుడి యొక్క క్రమము చవరి నుండి ఎన్నవది ?

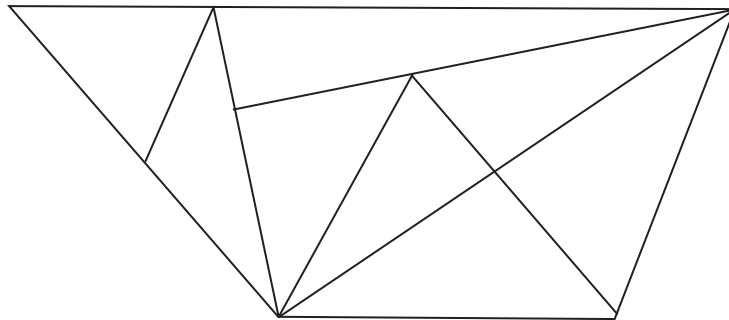
- (1) 20 (2) 19 (3) 29 (4) 21

58. సంఖ్యలయొక్క అమరిక నూత్రాన్ని గమనించి ప్రశ్నచిహ్నము స్థానంలో ఏ పర్యాయము వచ్చును గుర్తించండి.



- (1) 15 (2) 30 (3) 24 (4) 27

59. ఆకృతిలో మొత్తం ఎన్ని త్రిభుజాలు గలవు ?




- (1) 15 (2) 16 (3) 17 (4) 14

SPACE FOR ROUGH WORK



A	B	C	D	E	F	G	H	I	J	K	L	M	N	O	P	Q	R	S	T	U	V	W	X	Y
---	---	---	---	---	---	---	---	---	---	---	---	---	---	---	---	---	---	---	---	---	---	---	---	---

60. What is the total number of cubes in the given question figure.



- (1) 35 (2) 29 (3) 28 (4) 30

61. The ratio of ages of A, B, C is 5:7:12. If age of 'B' is more by two and a half years than age of 'A', then what was the age of 'C' two years before?

- (1) 13 years (2) 10 years (3) 12 years (4) 15 years



62. In the clock, at what time the angle between hour hand and minute hand measures 75° ? (Select two correct alternatives)

- (1) 30 minutes past nine (2) 30 minutes past two
(3) 30 minutes past three (4) 30 minutes past eight


63. Choose the mirror image of the question figure from the given alternatives.

Question Fig.


Answer Fig.




(1)



(2)



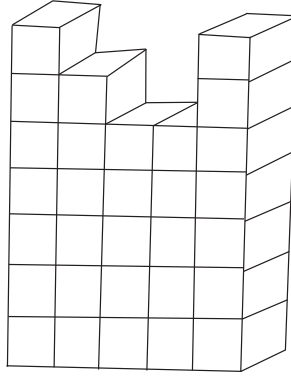
(3)



(4)

SPACE FOR ROUGH WORK

60. కింది ఆకృతిలో మొత్తం ఎన్ని ఘనంలు గలవు ?



- (1) 35 (2) 29 (3) 28 (4) 30

61. అ, బ, క ఈ ముగ్గురి అన్నాదముళ్ళ వయసుల నిష్పత్తి 5:7:12 కలదు 'అ' కన్న 'బ' వయసు రెండున్నర సంవత్సరాలు ఎక్కువ కలదు. అయిన 'క' వయసు రెండు సంవత్సరాల క్రితం ఎంత ఉండెను ?

- (1) 13 సంవత్సరాలు (2) 10 సంవత్సరాలు (3) 12 సంవత్సరాలు (4) 15 సంవత్సరాలు


62. గడియారంలో గంటల మరియు నిమిషాల ముల్లల మధ్య ఏ సమయంలో 75° కొలతలగల కోణం ఏర్పడును ?

- (1) 9 గం. 30 ని. (2) 2 గం. 30 ని.
(3) 3 గం. 30 ని. (4) 8 గం. 30 ని.


63. ప్రశ్నలోరని ప్రశ్నాకృతి యొక్క ప్రతిమ అద్దంలో ఎలా కనుబడునో గుర్తించండి.

ప్రశ్నకృతి

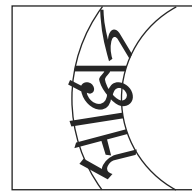
జవాబు ఆకృతి




(1)



(2)



(3)



(4)

SPACE FOR ROUGH WORK



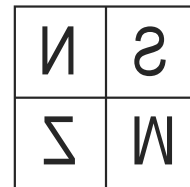
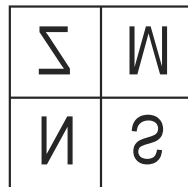
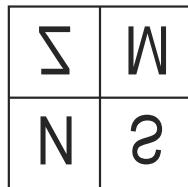
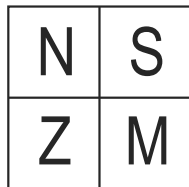
A	B	C	D	E	F	G	H	I	J	K	L	M	N	O	P	Q	R	S	T	U	V	W	X	Y
---	---	---	---	---	---	---	---	---	---	---	---	---	---	---	---	---	---	---	---	---	---	---	---	---

Q. 64 and 65 Direction :-

Choose the water image of the question figure from the given alternatives.

64. Question Fig.

Answer Fig.



(1)

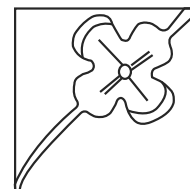
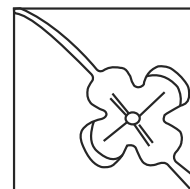
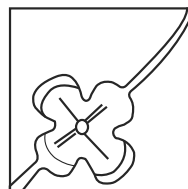
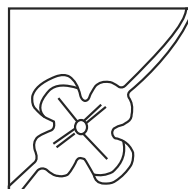
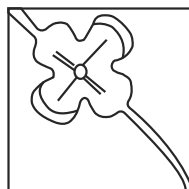
(2)

(3)

(4)

65. Question Fig.

Answer Fig.



(1)

(2)

(3)

(4)

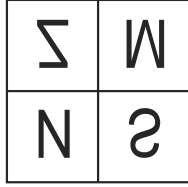
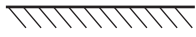

SPACE FOR ROUGH WORK

ప్రశ్న 64 మరియు 65 కొరకు సూచన:

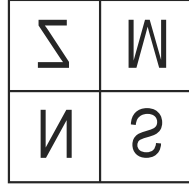
ప్రశ్నాకృతి యొక్క జలప్రతి బింబాన్ని పర్యాయాల నుండి గుర్తించండి.

64. ప్రశ్నకృతి

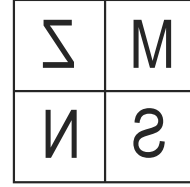
జవాబు ఆకృతి



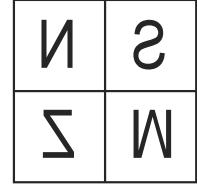
(1)



(2)



(3)

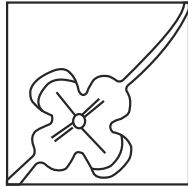
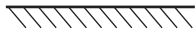
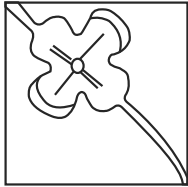


(4)

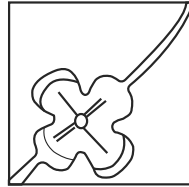
65.

ప్రశ్నకృతి

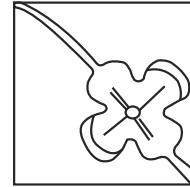
జవాబు ఆకృతి



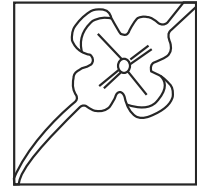
(1)



(2)



(3)




(4)

SPACE FOR ROUGH WORK

A	B	C	D	E	F	G	H	I	J	K	L	M	N	O	P	Q	R	S	T	U	V	W	X	Y
---	---	---	---	---	---	---	---	---	---	---	---	---	---	---	---	---	---	---	---	---	---	---	---	---

Q. 66 to 68 Direction : -

Observe the following pyramid of numbers and the sequence of terms given in the questions that follow. Choose the correct term from the given alternatives to replace the question mark.



66. 11, 17, 31 : 37, 22, 32 :: 28, 12, 31 : ?
 (1) 21, 34, 38 (2) 26, 20, 38 (3) 26, 20, 15 (4) 26, 34, 15
67. 23, 33, 17 : 12, 24, 27 :: 32, 25, 14 : ? (Choose two correct alternatives)
 (1) 26, 20, 38 (2) 31, 22, 39 (3) 34, 12, 27 (4) 21, 34, 15
68. 18, 32, 14, 17, 37, ?, 31, 12
 (1) 24 (2) 27 (3) 39 (4) 38

Q. 69 to 71 Direction : -

Identify the rhythmic arrangement of terms given below and find the correct term to replace the question mark.


69. a b c d e b b c d e a c ? d e a ? d d e a b ? e e
 (1) c b d (2) b b c (3) c c d (4) c b c

SPACE FOR ROUGH WORK

A	B	C	D	E	F	G	H	I	J	K	L	M	N	O	P	Q	R	S	T	U	V	W	X	Y
---	---	---	---	---	---	---	---	---	---	---	---	---	---	---	---	---	---	---	---	---	---	---	---	---

ప్రశ్న 66 నుండి 68 కొరకు సూచన:

కింది గోపురమును పరిశీలించండి.



66. 11, 17, 31 : 37, 22, 32 : : 28, 12, 31 : ?
 (1) 21, 34, 38 (2) 26, 20, 38 (3) 26, 20, 15 (4) 26, 34, 15
67. 23, 33, 17 : 12, 24, 27 : : 32, 25, 14 : ? (రెండు సరియైన పర్యాయాలను గుర్తించండి)
 (1) 26, 20, 38 (2) 31, 22, 39 (3) 34, 12, 27 (4) 21, 34, 15
68. 18, 32, 14, 17, 37, ?, 31, 12
 (1) 24 (2) 27 (3) 39 (4) 38

ప్రశ్న 69 నుండి 71 కొరకు సూచన:

ఇవ్వబడిన లయబద్ధమైన అమరికగల మాలికలో, ప్రశ్నచిహ్నము స్థానంలో ఏ పదాల పర్యాయము వచ్చునో గుర్తించండి ?

69. a b c d e b b c d e a c ? d e a ? d d e a b ? e e
 (1) c b d (2) b b c (3) c c d (4) c b c

SPACE FOR ROUGH WORK



A	B	C	D	E	F	G	H	I	J	K	L	M	N	O	P	Q	R	S	T	U	V	W	X	Y
---	---	---	---	---	---	---	---	---	---	---	---	---	---	---	---	---	---	---	---	---	---	---	---	---

70. $\bigcirc + \triangle \times \square \times \square \bigcirc + \triangle ? \triangle \times ? \bigcirc \square \bigcirc + ? \times \triangle \times \square \bigcirc +$
 (1) $+\square\triangle$ (2) $+\triangle\triangle$ (3) $\times\square\triangle$ (4) $+\square\bigcirc$

71. 0 1 2 1 2 3 2 3 4 3 4 5 4 ? ? ? ? 7 6 7 8 7 8 9
 (1) 5 6 4 5 (2) 4 5 6 4 (3) 5 6 5 6 (4) 5 6 7 5

Q. 72 to 74 Direction -

In a certain code language MAT is written as '427', CAN is written as '584' and NOT is written as '597'. The relation of letters and numbers may not be one to one.

72. Which number represents alphabet 'C'?

- (1) 4 (2) 5 (3) 8 (4) 2

73. What is the code for 'EAT'?

- (1) 547 (2) 247 (3) 289 (4) 147

74. $M + C - T = ?$

- (1) 5 (2) 3 (3) 2 (4) 8

75. Observe the numbers given in the grid and choose the correct alternative to replace the question mark. (Select two correct alternatives)

73	?	61
59	43	71
47	67	53

- (1) 37 (2) 41 (3) 79 (4) 77

SPACE FOR ROUGH WORK



A	B	C	D	E	F	G	H	I	J	K	L	M	N	O	P	Q	R	S	T	U	V	W	X	Y
---	---	---	---	---	---	---	---	---	---	---	---	---	---	---	---	---	---	---	---	---	---	---	---	---

70. $\bigcirc + \triangle \times \square \times \square \bigcirc + \triangle ? \triangle \times ? \bigcirc \square \bigcirc + ? \times \triangle \times \square \bigcirc +$
 (1) $+\square\triangle$ (2) $+\triangle\triangle$ (3) $\times\square\triangle$ (4) $+\square\bigcirc$

71. 0 1 2 1 2 3 2 3 4 3 4 5 4 ? ? ? ? 7 6 7 8 7 8 9
 (1) 5 6 4 5 (2) 4 5 6 4 (3) 5 6 5 6 (4) 5 6 7 5

ప్రశ్న 72 నుండి 74 కొరకు సూచన:

ఒక సాంకేతిక భాషలో 'సలగ' పదమును '427' ఇలా రాస్తారు, 'లపవ' పదమును '584' ఇలా రాస్తారు మరియు 'గవత' పదమును '597' ఇలా రాస్తారు. అయిన

72. 'ల' కొరకు ఏ అంకెను ఉపయోగించారు
 (1) 2 (2) 5 (3) 4 (4) 7

73. '8' కొరకు ఏ అక్షరమును ఉపయోగించారు
 (1) 48 న (2) 59 ల (3) 52 గ (4) 98 ప

74. గ + ప \times స = ఎంత ?
 (1) 17 (2) 23 (3) 47 (4) 34

75. సంఖ్యల యొక్క అమరిగ సూత్రాన్ని గుర్తించి ప్రశ్నచిహ్నము స్థానంలో ఏ సంఖ్యలువచ్చునో పర్యాయాల నుండి గుర్తించండి. (రెండు సరియైన పర్యాయాలను గుర్తించండి)

73	?	61
59	43	71
47	67	53

(1) 37 (2) 41 (3) 79 (4) 77

SPACE FOR ROUGH WORK

SPACE FOR ROUGH WORK